


استغفر

السرحة الاولى

المادة: مبادئ الإدارة (1)
المرحلة: الأولى
الوقت: ساعتان
التاريخ: 31 / 1 / 2023



أسئلة الامتحان
النهائي
الدور - الأول
الكورس الأول
للعام الدراسي
2024/2023



جامعة البصرة
كلية الإدارة والاقتصاد
قسم إدارة الأعمال
الدراسات الصباحية والمسائية

ملاحظة / الاجابة عن أربعة أسئلة فقط (توزع الدرجات بالتساوي لكل 12,5 درجات)

السؤال الأول / أختار الاجابة الصحيحة بما يناسبها

1- تعتبر الرقابة المالية نوع من انواع الرقابة :

(أ- الرقابة على الموارد البشرية ب- الرقابة حسب المستوى ج- الرقابة المبدئية د- الرقابة حسب المجال هـ الخياران (ب و د)

2- واحدة من بين الاتي تعتبر نوع من انواع الخطط التي يتم تطويرها لإنجاز اهداف معينة ولايحتمل تكرارها مستقبلا :
(أ- الخطط القائمة ب- خطة العمل ج- القواعد د- خطة رد الفعل هـ - ليس مما ذكر)

3- من بين المكونات الاتية يكون له تأثير قوي في رسم اتجاه ومسار المنظمة وعملها:
(أ- المشرعون ب- المالكون ج- الشريك الاستراتيجي د- مجلس الإدارة هـ - العاملون)

4- أحد هؤلاء الرواد أسهم بأضافة ما يسمى بالتنظيم الرسمي :
(أ- التون مايو ب- هنري فايول ج- فرانك جلوبث وليليان جلوبث د- ماري باركر فوليت هـ برنارد)

5- يحتاج المدراء في الإدارة العليا الى المهارات التالية بصورة أكثر من غيرها :
(أ- المهارات الفنية ب- المهارات الانسانية ج- المهارات الإدراكية د - الخياران (أ و ب))

6- أن العمليات الادارية التي نادى بها العالم هنري فايول عبارة عن اتجاه يركز على الاهتمام بالاتي ماعدا واحدة فقط هي:
(أ- الوظائف الادارية ب- أنشطة المنظمة ج- فهم جيد للمبادئ د- دراسة الوقت والحركة)

السؤال الثاني / صحح ما تحته خط فقط

1- ساهمت دراسات هوثورن بظهور مقاومة التغيير

2- يشكل الشريك الاستراتيجي عنصرا مهما في البيئة الداخلية للمنظمة

3- ان التخطيط الجيد يخلق مايسمى في المنظمة بالتوجه نحو النتائج او مايسمى البعض هرمية الاهداف

4- أن الرقابة الذاتية من قبل الافراد انفسهم هي مثال للرقابة على الموارد البشرية

5- أن التعلم مدى الحياة هو القدرة على تحويل المعرفة الى افعال ذات اداء متميز

6- ان العملية التخطيطية اهمية كبيرة في الممارسة الادارية وتشكل القاعدة الاساسية لانشطة المنظمة

السؤال الثالث / لكي تكون الاهداف ممكنة التحقيق وتساهم في نجاح المنظمة من الضروري ان تصاغ بشكل دقيق وتتسم بمجموعة من الصفات (الخصائص) ، ماهي هذه الخصائص ؟ عددها وأشرحها بالتفصيل

السؤال الرابع / أجب عن الفرعين التاليين :

1- وضح بالرسم فقط مراحل العملية الرقابية

2- وضح بالرسم فقط هرم ماسالو للحاجات

السؤال الخامس / ماهي ابعاد الكفاءة الادارية (سمات المدير الناجح) ؟ عددها واشرحها بالتفصيل

مع تمنياتي لكم بالنجاح

المادة: مبادئ محاسبة ١
الزمن: ساعتان
التاريخ: ٢٠٢٤ / ٢ / ٢٤



أسئلة امتحان النهائي الدور
الاول
٢٠٢٣ - ٢٠٢٤



جامعة البصرة
كلية الإدارة والاقتصاد
قسم ادارة الاعمال

ملاحظة:- الإجابة على اربعة اسئلة فقط وتوزع الدرجات بالتساوي

س ١/ في ١/١/٢٠٠٠ بأمر احمد عمله التجاري براس مال يتكون من ٤٠٠٠٠٠٠٠ دينار اودعها في الصندوق،
١٠٠٠٠٠٠٠ دينار في المصرف ، ٣٠٠٠٠٠٠٠ الأثاث ، ١٧٠٠٠٠٠٠ المدينون ، ٢٠٠٠٠٠٠٠ الدائنون ، ٥٤٠٠٠٠٠٠
قروض قصيرة الأجل ، رأس المال ؟
في ٤/١ قرر زيادة رأس المال بمقدار ٥٠٠٠٠٠٠ دينار أودعها المصرف
في ١/٢٠ أقرض من مصرف الرافدين مبلغا قدره ٢٠٠٠٠٠٠٠ دينار أودع المبلغ بالصندوق بفائدة قدرها ٦% تدفع عند
تسديد القرض وذلك بعد ستة أشهر من تأريخه.
في ١/٢٥ سدد قرض قصير الأجل البالغ ٥٠٠٠٠٠٠ دينار
في ١/٢٨ سحب بضاعة بمبلغ ٥٠٠٠٠٠٠ دينار لأغراضه الشخصية
في ١/٣٠ باع بضاعة بمبلغ ٥٠٠٠٠٠٠ دينار نقدا
٧/٢٠ تم تسديد القرض البالغ ٢٠٠٠٠٠٠٠ دينار إلى مصرف الرافدين مع الفائدة المترتبة على ذلك
في ٧/٢٢ تم سداد نصف ما يستحقه الدائنون بشيك.
المطلوب // تسجيل القيود اليومية اللازمة في سجل اليومية للتاجر احمد.
س ٢/ توافرت لديك البيانات الآتية:

- ١- بدأ علي نشاطه التجاري بايداع مبلغ ٢٠٠٠٠٠٠٠ دينار نقدا في صندوق منشأته التجارية.
 - ٢- سحب علي مبلغ ٢٠٠٠٠٠٠ دينار لغرض دفع مصاريف شخصية.
 - ٣- شراء بضاعة بمبلغ ٤٠٠٠٠٠٠ دينار من التاجر محمد على الحساب.
 - ٤- تسديد مبلغ ٢٠٠٠٠٠٠ دينار من دين التاجر محمد نقدا
 - ٥- شراء بضاعة بمبلغ ٦٠٠٠٠٠٠ دينار ودفع قيمتها نقدا.
 - ٦- تسديد مبلغ ٦٠٠٠٠٠ دينار من دين التاجر محمد من اموال المالك الخاصة.
 - ٧- تنازل علي عن ٦٠٠٠٠٠٠ دينار من راس ماله الى اخيه محمود كشريك جديد.
- المطلوب // بيان اثر العمليات اعلاه على معادلة الميزانية:

س ٣/ اليك البيانات الآتية :

- ١- في ٢٠٢٠/٣/٥ قام التاجر بهاء بشراء بضاعة من التاجر ضياء على الحساب بمبلغ ٣ مليون دينار بشروط دفع ١٠/٥
٣٠/١٥، ن، ٣٠/٣٠.
 - ٢- في ٢٠٢٠/٣/٩ قام التاجر بهاء بتسديد مبلغ ٩٠٠٠٠٠٠٠ دينار نقدا
 - ٣- في ٢٠٢٠/٣/١٩ قام التاجر بهاء بتسديد ما يعادل ١٢٠٠٠٠٠٠٠ دينار من حسابه بشيك مسحوب على المصرف.
 - ٤- في ٢٠٢٠/٣/٢٩ قام التاجر بهاء بتسديد ما بذمته نقدا
- المطلوب // تسجيل القيود اليومية في سجلات البائع والمشتري.

س ٤/ فيما يلي الحسابات المستخرجة من سجل الأستاذ العام لإحدى الشركات التجارية عن السنة المنتهية
٢٠٢٠/١٢/٣١.

ح/ المصرف			ح/ الصندوق		
١/٥	رأس المال	٢٥٠,٠٠٠	١/١٠	البضاعة	١٠٠,٠٠٠
١/١٥	البضاعة	٥٠,٠٠٠	١/٢٠	المكائن	٢٥,٠٠٠
١/٣٠	رأس المال	٥٠,٠٠٠	١/٢٥	م. الرواتب	١٠,٠٠٠

ح/ البضاعة			ح/ رأس المال		
١/١٠	الصندوق	١٠٠,٠٠٠	١/٥	مذكورين	٤٥٠,٠٠٠
٥١,٠٠٠	المصرف	٥١,٠٠٠	١/٣٠	المصرف	٥٠,٠٠٠

ح/ م. الرواتب			ح/ المكائن		
١/٢٥	الصندوق	١٠,٠٠٠	١/٢٠	الصندوق	٢٥,٠٠٠

المطلوب// إعادة اثبات قيود اليومية في السجلات
س ٥/ بين العمليات التي انتجت المعالجات المحاسبية الآتية:


- (٢) ٦٠٠٠٠٠ من ح/ البضاعة
٦٠٠٠٠٠ الى ح/ الدائنون
(٤) ٣٠٠٠٠٠ من ح/ الدائنون
٦٠٠٠٠٠ الى ح/ المصرف

- (١) ٦٠٠٠٠٠٠ من ح/ المصرف
٦٠٠٠٠٠٠ الى ح/ رأس المال
(٣) ٢٠٠٠٠ من ح/ رأس المال
٢٠٠٠٠ الى ح/ المصرف
(٥) ١٠٠٠٠٠ من ح/ الدائنون
١٠٠٠٠٠ الى ح/ المصرف

العميد

رئيس القسم

مدرسة المادة



ملاحظة: الاجابة عن خمسة اسئلة. توزع الدرجات بالتساوي (لكل سؤال 10 درجات)

س1/ أ. ضع علامة صح امام العبارة الصحيحة وعلامة خطأ امام العبارة الخاطئة مع تصحيح الخطأ ان وجد.

1. لفتح لوحة المهام الجانبية يتم عن طريق المفتاح Ctrl+F10 (10 درجات)
 2. المكان الافتراضي لحفظ الملف اذا ما اردنا تغيير مكانه هو سطح المكتب.
 3. لاضافة مربع نص في اي مكان في المستند يتم عن طريق مجموعة ادراج.
 4. لتغيير مواصفات اي جزء من اجزاء الرسم البياني نقوم بتحديد ذلك الجزء عن طريق مجموعة تحديد البيانات.
 5. لغرض طباعة الفقرة التي تم تحديدها سابقا من قبل المستخدم بواسطة المؤشر نختار الخيار الفقرة.
- ب. هناك ثلاثة طرق لادراج جدول داخل المستند اشرحها بالتفصيل.

س2/ أ. اختر الاجابة الصحيحة من النقاط التالية. (10 درجات)

1. لغرض تحديد كل محتويات الملف من نصوص وكائنات نستخدم مجموعة -----
 1. تحديد الكل.
 2. تحديد الكائنات.
 3. جزء التحديد.
 4. غير ذلك.
2. لغرض جعل وسيلة الايضاح على اليمين او اليسار في المخطط البياني نستخدم مجموعة -----
 1. تنسيق.
 2. محاور.
 3. تسميات.
 4. غير ذلك.
3. لغرض ادراج ارقام للصفحات داخل المستند عن طريق مجموعة -----
 1. راس وتذييل.
 2. رقم الصفحة.
 3. ادراج.
 4. غير ذلك.
4. عندما نريد ادراج معادلة داخل مستند الورد نذهب الى مجموعة -----
 1. معادلات.
 2. ادراج.
 3. رمز.
 4. غير ذلك.
5. لتغيير نطاق البيانات المضمن في المخطط البياني يتم عن طريق الامر -----
 1. جدول.
 2. مخطط.
 3. تحديد البيانات.
 4. غير ذلك.

ب. ما المقصود بالأمر راس وتذييل؟ شرحها بالتفصيل مع ذكر خطوات اضافة راس وتذييل داخل صفحة المستند.

س3/ هناك اربع خيارات يمكن تنفيذها في قائمة ارتباط Link ضمن الامر الارتباط التشعبي ، عددن واشرحهم*
تفصيل. (10 درجات)

يتبع..

(10 درجات)

س4/ اجب على الفرعين التاليين.

أ. صحح الاخطاء التالية بما يناسبها.

1. لأضافه نص مزخرف داخل ملف الورد يتم عن طريق مجموعة تنسيق.
 2. من جل عمل توقيع الكتروني للمستندات المهمة والتحقق من هوية المستخدم نختار الامر نص.
 3. لأغلاق النافذة النشطة نستعين بالمفتاح Ctrl+F5.
 4. لو اردنا تنسيق فقرة حالية استنادا الى فقرة منسقة سابقا نذهب الى مجموعة فقرة.
 5. لأضافه صفحة جديدة بين صفتين داخل المستند نستخدم مجموعة ادراج.
- ب. . تكلم بالتفصيل عن مجموعة (Pages) ضمن تبويب ادراج ، مع شرح الاوامر التي تحتويها هذه المجموعة.

(10 درجات)


س5/ وضح بشكل مفصل وظيفة المفاتيح التالية.


- | | | | | | | | | | |
|--------|----|---------------|----|-----------|----|--------|----|-------------|-----|
| Ctrl+* | 1. | Ctrl+Shift+F | 2. | Ctrl+Home | 3. | F12 | 4. | Shift+F1 | 5. |
| Ctrl+↓ | 6. | Alt+Shift+Tab | 7. | Ctrl+U | 8. | Ctrl+H | 9. | Shift+ PeUP | 10. |


س6/ تكلم بشكل مفصل عن العناصر الاساسية التي تتكون منها نافذة الورد Microsoft Word 2010

(10 درجات)

مع تمنياتي لكم بالنجاح والموفقية..


أ. د. هادي عبدالوهاب عبدالامام
رئيس القسم

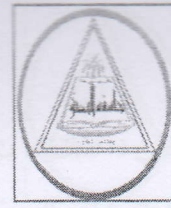

م. عملر نزار مصطفى
مدرس المادة


م. ثائر خلف خشان
مدرس المادة

المادة: اقتصاد
المرحلة: الاولى
الوقت: ساعتان
التاريخ: ٢٠٢٤ / ٢ / ٧



اسئلة الامتحان
النهائي
الدور - الاول
الكورس الاول
للعام الدراسي
٢٠٢٤/٢٠٢٣



جامعة البصرة
كلية الإدارة والاقتصاد
قسم ادارة الاعمال
الدراسات الصباحية
والمسائية

ملاحظة / الاجابة على خمسة اسئلة فقط . توزع الدرجات بالتساوي ولكل سؤال ١٠ درجات .

س١ / املأ الفراغات الاتية بما يناسبها:

١- مجموعة من التعريفات والفرضيات الاقتصادية الخاصة بظاهرة اقتصادية والاستنباط المنطقي للوصول الى استنتاجات اقتصادية -----

٢- العلاقة العكسية بين ----- و----- هو السبب وراء تناقص الكميات المتنازل عنها في منحنى السواء .

٣- ----- تمثل قوة العلاقة الدالية بين المتغيرات من خلال مجموعة من الاختبارات والتنبؤ المستقبلي بقيم الظاهرة المبحوثة .

٤- اذا قرر المستهلك اختيار التوليفة التي يطمح ان تحقق مستوى اشباع بأمكانيات اعلى من دخله ، فتكون التوليفة في هذه الحالة -----

٥- عند انتقال المستهلك بشكل افقياً من منحنى سواء (I₂) الى منحنى سواء (I₁) يحصل تغير في ----- للمستهلك بسبب تغير وحدات السلعة -----

س٢ / ضع حرف الاختيار لكل مما يأتي :

١- تمتلك كل صفات السلع الاقتصادية لكنها غير مادية. (أ- المصانع ب- الاسهم ج- السلع الحرة د- الخدمات)
٢- اي العبارات الاتية صحيحة أ- المنفعة هي علاقة بين السعر والكمية المستهلكة. ب- العلاقة طردية بين عدد الوحدات الاولى للمنفعة الكلية وعدد الوحدات الاولى للمنفعة الحدية للسلعة. ج- العلاقة طردية بين المنفعة الحدية للسلعة وكمية لتلك السلعة المستهلكة . د- العلاقة عكسية بين عدد الوحدات الاولى للمنفعة الحدية وعدد الوحدات الاولى للمنفعة الكلية للسلعة.

٣- للحد من الندرة (العلاج غير السلبي) في اقتصاد بلد معين اياً كان نظامه الاقتصادي يعمل على أ- تأجيل بعض الرغبات الى المستقبل. ب- زيادة الرغبات في الوقت الذي تكون فيه السلع والخدمات ثابتة. ج- تأجيل السلع والخدمات مع بقاء الرغبات متعددة . د- زيادة السلع والخدمات مع بقاء الرغبات متعددة .

٤- اي العبارات الاتية صحيحة :

أ- الاسهم هي ثروة لأنها حقوق على السلع الاقتصادية تسهل عملية المبادلة.

ب- ان تحديد انواع وكميات السلع والخدمات التي تنتج وطرق انتاجها وتوزيعها هو هدف النظام الاقتصادي . ج- بعد عملية الانتاج يحصل العامل الانتاجي على العائد بحسب نسبة مساهمته في الانتاج. د- الاستخدام الامثل للموارد يتحقق في النظام الاقتصادي المخطط عن طريق آلية الاسعار.

- ٥- اي العبارات الاتية خاطئة أ- اذا كانت هناك توليفات مكونه من كميات مختلفة من سلعة X وكمية ثابتة من سلعة Y تحقق الاشباع نفسه ، فمن غير المنطقي ان يكون منحنى السواء عمودياً.
- ب- اذا كانت هناك توليفة مكونة من كمية ثابتة من سلعة X وكميات مختلفة من سلعة Y تحقق الاشباع نفسه، فمن غير المنطقي ان يكون منحنى السواء عمودياً.
- ج- اذا كانت هناك توليفات مكونه من كميات مختلفة من سلعة X وكمية ثابتة من سلعة Y تحقق الاشباع نفسه ، فمن غير المنطقي ان يكون منحنى السواء افقياً.
- د- اذا كانت هناك توليفات مكونة من كميات مختلفة من السلعة Y وكمية ثابتة من السلعة X ، فمن غير المنطقي ان يكون منحنى السواء عمودياً.

س ٣/ ما الفرق بين ١- الفقر والندرة ٢- القوانين الاقتصادية عند المدرسة الكلاسيكية والتاريخية ٣- المشكلة الاقتصادية والمشكلة التكنولوجية ٤- التوليفات الاقتصادية وغير الاقتصادية عند تماس خط الدخل مع منحنى السواء (بالرسم فقط)

س ٤/ أ / اشتق العلاقة بين المعدل الحدي لأحلال (MRS) والمنفعتين الحديثتين للسلعتين (X,Y) عند تحرك المستهلك من اعلى اليسار الى اسفل اليمين ؟
ب/ وضح بالرسم فقط مراحل العلاقة بين المنفعة الكلية والمنفعة الحدية ؟

Group	X	Y
A	6	5
B	8	4
C	11	3
D	16	2
E	22	1

س ٥/ اذا توفرت لديك البيانات في الجدول :

ارسم منحنى سواء المستهلك ؟

ثم احسب MRS عند تحرك المستهلك من اسفل

اليمين الى اعلى اليسار وضعه في جدول ؟

س ٦/ مستهلك دخله (M=240) يريد انفاقه على السلعتين (X,Y) اذا علمت ان (P_x=40) و (P_y=20) ، اكتب معادلة قيد الميزانية ؟ احتساب اقصى كمية يمكن شراؤها من السلعة X واقصى كمية يمكن شراؤها من السلعة Y ؟ مع رسم خط الميزانية .

مع تمنياتي لكم بالنجاح

العميد

د. عبدالحسين توفيق شبلي


رئيس القسم

د. هادي عبد الوهاب

مدرس المادة

د. محمود قاسم دلول

م.م ياسمين السعد



ملاحظة: الاجابة عن اربعة اسئلة ودرجة كل سؤال 12.5 درجة

السؤال الاول ضع صح امام العبارات الصحيحة وخطأ امام العبارات الخاطئة

1- المصفوفة $D = \begin{pmatrix} 3 & 0 & 0 \\ 0 & 2 & 0 \end{pmatrix}$ تسمى مصفوفة قطرية

2- ليكن

$$X + \begin{pmatrix} 2 & 5 \\ 9 & 10 \end{pmatrix} = \begin{pmatrix} 7 & -2 \\ 6 & -7 \end{pmatrix}$$

فان $X = \begin{pmatrix} 5 & -7 \\ 2 & -17 \end{pmatrix}$

3- لتكن $A = \begin{bmatrix} -5 & 3 \\ 4 & 2 \\ 1 & 5 \end{bmatrix}$ فان $t_r(A) = -50$

4- اذا كانت

فان $\begin{bmatrix} a & 2c \\ 4b & d \end{bmatrix} + 4 \begin{bmatrix} -1 & c-a \\ b+d & 2d \end{bmatrix} = \begin{bmatrix} 3 & 5 \\ 2 & -4 \end{bmatrix}$, $a=3$, $b=2$, $c=4$, $d=-5$.

5-

$$\begin{vmatrix} 5 & 4 & 10 \\ 0 & 3 & 0 \\ 6 & 2 & 12 \end{vmatrix} = 0$$

6-

$$A = \begin{bmatrix} 5 & 6 \\ 7 & -2 \end{bmatrix} \Rightarrow \text{adj}(A) = \begin{bmatrix} -5 & 7 \\ 6 & 2 \end{bmatrix}$$

السؤال الثاني اختر الاجابة الصحيحة لكل مما يلي

1- اذا كانت $A = \begin{bmatrix} 3 & 0 \\ -1 & 2 \\ 1 & 1 \end{bmatrix}$ و $B = \begin{bmatrix} 1 & 4 & 2 \\ 3 & 1 & 5 \end{bmatrix}$ فان $2A^T + B$

-A- $\begin{bmatrix} 7 & 4 & 5 \\ 3 & 7 & 2 \end{bmatrix}$ -B- $\begin{bmatrix} 7 & 2 & 4 \\ 3 & 5 & 7 \end{bmatrix}$ -C- غير ذلك

2- اذا كانت B مصفوفة من الدرجة 3x3 معطاة بالشكل $B = \begin{bmatrix} 1 & 1 & 2 \\ 0 & 0 & -3 \\ -1 & -1 & 5 \end{bmatrix}$ فان $B \times B^t$ يساوي

3- إذا كانت $A = \begin{bmatrix} 1-i & 3i \\ 5 & 5+2i \end{bmatrix}$ فإن المصفوفة المرافقة لها هي

$$C = \begin{bmatrix} -1-i & -3i \\ -5 & -5-2i \end{bmatrix} \quad -B = \begin{bmatrix} -1-i & -3i \\ 5 & 5-2i \end{bmatrix} \quad -A = \begin{bmatrix} 1+i & -3i \\ -5 & 5-2i \end{bmatrix}$$

D- غير ذلك

-4

لتكن $(A+B)^T =$ فإن $A = \begin{bmatrix} 4 & 5 \\ -4 & 8 \end{bmatrix}$ ، $B = \begin{bmatrix} 2 & 4 \\ 6 & 7 \end{bmatrix}$

$$A = \begin{bmatrix} 6 & 2 \\ 9 & 15 \end{bmatrix} \quad -B = \begin{bmatrix} 9 & 6 \\ 6 & 9 \end{bmatrix} \quad -C = \begin{bmatrix} 9 & -2 \\ -9 & 15 \end{bmatrix}$$

5- إذا كانت المصفوفة $A = \begin{bmatrix} 1 & 5 \\ 0 & 2 \end{bmatrix}$ فإن A^2 تساوي

$$A = \begin{bmatrix} 1 & 25 \\ 0 & 4 \end{bmatrix} \quad -B = \begin{bmatrix} 1 & 15 \\ 0 & 4 \end{bmatrix} \quad -C = \begin{bmatrix} 1 & 15 \\ 0 & 1 \end{bmatrix}$$

السؤال الثالث اثبت ان

$$\begin{vmatrix} 2 & 1 & -4 \\ 4 & 0 & -8 \\ 6 & -6 & 12 \end{vmatrix} = 24 \begin{vmatrix} 1 & 1 & -1 \\ 2 & 0 & -2 \\ 1 & -2 & 3 \end{vmatrix}$$

السؤال الرابع جد معكوس المصفوفة التالية

$$A = \begin{bmatrix} 1 & -1 & 2 \\ 2 & 1 & 1 \\ 1 & 2 & -3 \end{bmatrix}$$

السؤال الخامس إذا كانت

$$A = \begin{bmatrix} 5 & 4 & -2 \\ 4 & 5 & -2 \\ -2 & -2 & 2 \end{bmatrix}$$

جد $A^2 - 11A + 10I$

مع تمنياتنا لكم بالنجاح

العميد

أ.د. عبدالحسين توفيق شبلي

رئيس القسم

أ.د. هادي عبدالوهاب

مدرس المادة

م.م. باسل جبار

مدرس المادة

أ.م. وفاء عبدالصمد

Subject: Managerial Readings
Stage: First year
Time: Two hours
Date: 12 /Feb./2024



Final Exam
First attempt
2023/2024



University of Basrah
College of Administration
and Economics
Department of Business
Administration

Note: Out of six questions answer five only (each question will be given 10 marks)

Q1/ Read the following sentences then full their blanks by using the correct answer for each sentence from its below options.

- Managers must understand how the management functions must be practiced not only how they are defined and related.
a. four b. three c. two d. five
-are skills that involve the ability to think in the and to see the organization as a whole.
a. Technical skills b. Conceptual skills c. Human Skills d. Tactical skills
- Managers are responsible for combining and coordinating the various resource to achieve the organization's
a. standards b. values c. goals d. activities
- Division of work andproduces more and better work with the same effort.
a. standardization b. summarization c. classification d. specialization
- Operational level managers are those managers having the least..... and are at the lowest level in the hierarchy.
a. authority b. power c. responsibility d. delegation
- believed that organizations should be managed impersonally and that formal organizational structure, where specific rules were followed, was important.
a. Henry Fayol b. Max Weber c. Fredrick Taylor d. Mary Follet
- Planning is the management function that involves two separate setting goals and deciding how best to achieve them.
a. organizations b. levels c. processes d. policies
- Interpersonal refer to manager interaction and directing of people.
a. tools b. methods c. styles d. roles
- Henry Fayol a French mining engineer developed..... principles of management.
a. 14 b. 13 c. 12 d. 11
- Human resource managers are responsible for hiring and developing
a. techniques b. values c. operation d. employees

Q2/ Give definitions for the following:

- Directing
- Management
- Informational roles
- Marketing management
- Middle levels managers

Q3/ Read the following statements and write T if the statement is true and write F if the statement is false.

1. Organizations generally have three levels of management.
2. Controlling is the management function that is aimed at regulating organizational activities so that the actual performance conforms to expected organizational standards and goals.
3. Unity of direction means employees should receive orders from only one superior.
4. Max weber believed that organizations should study tasks and develop precise procedures.
5. Mary Follett brought to management the perspective of political science and social work.
6. Salaries are the price of services rendered by employees.
7. Responsibility is the right to give order and the power to exact obedience.
8. A skill is an organized set of elements that associated with a particular office or position.
9. The progress of specialized tasks and the development within organizations came with rapid industrial changes.
10. A manager has official authority because of his position as well as personal authority based on individual personality, intelligence and experience.


Q4/ What are the main characteristics of bureaucratic management school (Max Weber School)?


Q5/ Illustrate by the figures the following:


1. The interrelations of the four functions of management.
2. The relationship between management levels and management skills.

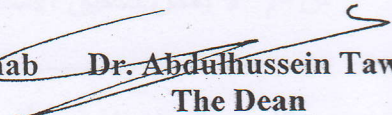
Q6/ What are the main responsibilities of Human resource managers?

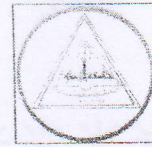
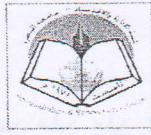
Good Luck & all the best


Dr. Abbas Abdulhameed
Lecturer


Dr. Shata Ahmed
Lecturer


Dr. Hadi Abdulwahab
Head of Dept.


Dr. Abdullhussein Tawfiq
The Dean



ملاحظة : الإجابة على خمسة أسئلة فقط لكل سؤال (١٠ درجات)

س١/ عرف خمساً مما يأتي:

١- الحقوق الطبيعية ٢- القانون الوضعي ٣- التشريع ٤- التعصب الديني ٥- الفساد الإداري ٦- الحقوق السياسية

س٢/ ضع كلمة صح أمام العبارة الصحيحة وكلمة خطأ أمام العبارة الخاطئة لخمس مما يأتي:

١- أن الملامح الأساسية لفكرة التعايش السلمي لم تتبلور إلا في عام ١٩٥٦.

٢- يعد الحق في حرمة المسكن من الحقوق الاقتصادية.

٣- يعد الحوار العقلاني الهادف أحد وسائل تحقيق التعايش السلمي .

٤- تشمل المساواة في الحقوق ، المساواة في الضرائب والخدمة العسكرية.

٥- تتميز حقوق الإنسان بطابع العالمية فهي لكل بني البشر .

٦- يعرف الحق اصطلاحاً بأنه مصلحة مادية أو معنوية يحميها القانون.

س٣/ اختر الاجابة الصحيحة من بين الأقواس لخمس مما يأتي :

١- يعد في طبيعة الحقوق السياسية وهي الرابطة القانونية والسياسية التي تربط الفرد بالدولة (المواطنة - العدالة - الانتخاب).

٢- إن من ادوات ووسائل تحقيق التعايش السلمي هو (التعليم والتثقيف - الانحياز - التزمّت بالفكر).

٣- إن من الحقوق الاقتصادية والاجتماعية والثقافية هو ..الحق في الانتخاب-الحق في الاستفتاء-الحق في العمل).

٤- إن حق الإنسان في حماية حياته الخاصة تشمل (الحق في سرية المراسلات- الحق في حرية التنقل -الحق في العدالة).

٥- إن من المصادر الرسمية او الاصلية لحقوق الانسان (المبادئ الدينية -القضاء -الفقه).

٦- وهي الحقوق المرتبطة ارتباطاً وثيقاً بشخص الإنسان وتقرر هذه الحقوق كقاعدة عامة للمواطنين والاجانب على السواء (الحقوق المدنية -الحقوق السياسية -الحقوق الثقافية).

س٤/ تكلم عن خصائص حقوق الانسان في الشريعة الإسلامية؟

س٥/ لا يمكن تحقيق الاستقرار والسلام في المجتمع بدون التعايش السلمي ، عدد أهداف التعايش السلمي ؟

س٦/ يعد الفساد الإداري أشد أنواع الفساد ضرراً بالأفراد ، وضح أنواع الفساد الإداري ؟

تمنيتاني لكم بالنجاح والتوفيق

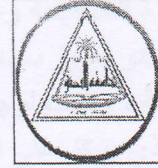
استنتاج

المرحلة الثانية

المادة: نظرية المنظمة
المرحلة: الثانية
التاريخ: 2023/12/26
الزمن: ساعتان



أسئلة الامتحان الدور -
الاول
للعام الدراسي
2024/2023



جامعة البصرة
كلية الإدارة والاقتصاد
قسم ادارة الاعمال
الدراسات الصباحية والمسائية

جب عن خمسة أسئلة (توزع الدرجات بالتساوي : 10 درجات لكل سؤال)

- س1: اختر الإجابة الصحيحة
1. إن السلوك التنظيمي هو فحص العلاقات الغير رسمية ضمن المنظمة على مستوى :
A. الكلي B. الجزئي C. الأقسام D. كل ما ذكر
 2. يتصف الهيكل التنظيمي ضمن مرحلة الانحدار من دورة حياة المنظمة :
A. المركزية B. اللامركزية C. البساطة D. ليس مما ذكر
 3. إن نموذج علم بيئة المجتمع يتناغم مع :
A. الإشكال التنظيمية B. الأنواع التنظيمية C. البيئة التنظيمية D. الثقافة التنظيمية
 4. يفترض بالمنظمات ضمن دورة حياة المنظمة زيادة أعداد الأفراد العاملين في مرحلة :
A. النمو B. النضج C. الولادة D. الانحدار
 5. إن مستوى السلطة يكون مرتبطاً :
A. تقسيم العمل B. الهيكل C. العلاقات الشخصية D. نطاق السيطرة
 6. في مراكز التسوق الكبيرة (بصرة تايم سكوير) يتم تطبيق :
A. إستراتيجية الدخول المبكر B. إستراتيجية عامة C. إستراتيجية الدخول المتأخر D. إستراتيجية التخصص
 7. المنظمة عبارة عن نظام يتكون من :
A. الوظائف B. التخصصات C. المسويات الفرعية D. الأنظمة الفرعية
 8. تتصف عملية اتخاذ القرار ضمن الهيكل العضوي :
A. المركزية والارسمية B. اللامركزية والارسمية C. اللارسمية واللامركزية D. ليس مما ذكر
 9. ان المصطلح الذي يشير الى مقدار الموارد المستخدمة لتحقيق أهداف المنظمة هو :
A. الكفاءة B. الفاعلية C. الرقابة D. الاستدامة
 10. في مرحلة الانحدار تكون المنظمة بحاجة إلى مقدار من الإبداع يكون :
A. كبير جداً B. متكرر C. قليل D. كثير

س2: (ا) قارن على شكل جدول اتجاه المنظمة نحو الرقابة الرسمية وغير الرسمية
(ب) ما هي المرتكزات الأساسية لنظرية علم بيئة المجتمع ؟ عددها . وماهي العمليات الواجب إتباعها لتلبية احتياجاتها؟
وضحها

س3: (ا) ما هي الأهداف الأساسية المرغوبة للمنظمات ؟ عددها .
(ب) وضح نموذج Charles Perrow من حيث الافتراضات الأساسية ، والاحتمالات الأساسية في التكنولوجيا المستخدمة من قبل المنظمات (وضح إجابتك من خلال ارسم)

س4: (ا) ما هي المشاكل التي تواجه المنظمات في مرحلة الولادة من دورة حياة المنظمة ؟ وضحها .
(ب) ما هي عوامل التي حددها Porter لتحليل قوى التنافسية في بيئة المنظمة ؟ عددها مع التوضيح.

س5: (ا) ما هي أنواع التماثل ؟ عددها مع التوضيح؟
(ب) ما هي العوامل التي تؤدي إلى زيادة نسبة الولادات للمنظمات؟ وضح إجابتك مدعومة بالأمثلة؟

- س6: ضع كلمة (صح) أمام العبارة الصحيحة وعلامة (خطا) أمام العبارة الخاطئة.
1. في مرحلة الولادة يكون الهدف هو تعزيز سمعة المنظمة.
 2. تسمى كل من أبعاد حجم المنظمة ، والتكنولوجيا، وبيئة المنظمة، وهدف المنظمة بالأبعاد القرينية.
 3. يكون هدف تصميم المنظمات الذي يركز على الاتصالات الأفقية، والتنسيق الأفقي هو تحقيق الفاعلية.
 4. وفقا للنموذج البيروقراطي فإن البيروقراطية المثالية هي الحل الامثل لمشاكل المنظمات.
 5. تتطلب مرحلة النضج مزيدا من خطوط الإنتاج.
 6. ان نجاح أي نظام معياري أو تطبيقي يستلزم وجود مجموعة من الأنظمة النظرية.
 7. إن المدخل الكلاسيكي في نظرية المنظمة يركز على استخدام تأثيرات المنظمة في المجتمع وكيفية إدارة تلك المنظمة بكفاءة.
 8. يعبر الهيكل التنظيمي عن نطاق الإشراف داخل المنظمة.
 9. التحالفات الإستراتيجية هي عبارة عن قيام المنظمة بمنح حصة للمنافسين من اجل كسب ودهم لتحقيق مصالحها.
 10. إن الهيكل التنظيمي الذي يشجع على التقارير الرسمية المكتوبة يسمى بالهيكل العمودي.

مع تمنياتي لكم بالنجاح

٢
رئيس القسم
إ.د. هادي عبدالوهاب

مدرسة المادة
نرجس عقيل


مدرسي المادة
إ.د. هادي عبدالوهاب

العميد
إ.د. عبالحسين توفيق شبلي

المادة: إدارة الموارد البشرية
المرحلة: الثانية
الوقت: ساعتين
التاريخ: 2023 / 12 / 28



أسئلة الامتحان
النهائي
الدور - الأول
الكورس الأول
للعام الدراسي
2024/2023



جامعة البصرة
كلية الإدارة والاقتصاد
قسم ادارة الاعمال
الدراسات الصباحية
والمسائية

ملاحظة: 1- الإجابة عن خمس أسئلة فقط
2- توزع الدرجات بالتساوي لكل سؤال 10 درجات

س1: ما هي طرق تحليل العمل، موضحاً أي هذه الطرق لها تأثير كبير على عملية التحليل ولماذا؟

س2: عدد أهم أهداف عملية استقطاب الموارد البشرية؟

س3: يختلف مفهوم المهارات عن مفهوم القدرات، وضح ذلك مبيناً أنواع المهارات؟

س4: ما هي الخطوات اللازمة لعملية الاختيار، مع بيان أي الخطوات أكثر أهمية وأخطر على المؤسسة؟

س5: ما هي العوامل المؤثرة في تصميم الوظائف وأثرها على نوع الوظائف ومستواها وتأهيلها؟

س6: وضح ما هو الفرق بين التحليل الوظيفي والتصميم الوظيفي.

مع تمنياتي لكم بالنجاح

العميد
أ.د. عبدالحسين توفيق سبلي

رئيس القسم
أ.د. هادي عبد الوهاب

مدرسا المادة
أ.د. رشا مهدي صالح
أ.د. وميض عبدالزهرة

المادة: تطبيقات الحاسوب 1

المرحلة: الثانية

الوقت: ساعتان

التاريخ: 2023 / 12 / 31

نموذج:



أسئلة الامتحان

النهائي

الدور - الاول

الكورس الاول

للعام الدراسي

2024/2023

جامعة البصرة
كلية الإدارة والاقتصاد
قسم ادارة الاعمال
الدراسات الصباحية
والمسائية

لاحظة: الاجابة عن خمسة اسئلة. توزع الدرجات بالتساوي

(10 درجات)

س1/ املأ الفراغات بما يناسبها.

1. لتغير اتجاه الورقة من اليمين الى اليسار عن طريق تبويب.....
2. لغرض اجراء تجميد الاجزاء يتم عن طريق تبويب.....
3. لعمل تنسيق سريع لنطاق الخلايا وتحويله الى جدول عن طريق مجموعة.....
4. من اجل الوصول الى الامر قاموس المرادفات نذهب الى تبويب.....
5. من اجل تحديث كافة المعلومات الواردة من مصدر البيانات يتم عن طريق مجموعة.....
6. من اجل عمل عملية التجميع وفك التجميع نختار مجموعة.....
7. من اجل ارسال الملف كمرفق بريدي او عمل مشاركة له على الويب يتم عن طريق الامر.....
8. من اجل حفظ تنسيق وتخطيط المخطط البياني كقالب يتم اللجوء الى تبويب.....
9. لتحديد طول وعرض الخلية ليتم طباعة المستند كامل بكل خلاياه عن طريق مجموعة.....
10. من اجل تغير اسم الخلية من اسمها المعتاد عنوان العمود ورقم الصف الى اسم اخر نختار مجموعة.....

(10 درجات)

س2/ وضح مفهوم ووظيفة المفاتيح التالية

1. Ctrl+Shift+U
2. Ctrl+Shift+P
- 3.
4. Ctrl+D
5. Ctrl+Alt+V
6. لعرض مربع الحوار إنشاء جدول.
7. لإغلاق نافذة المصنف المحدد.
8. لإدخال الوقت الحالي.
9. لتطبيق تنسيق الأرقام "علمي" بمنزلتين عشريتين
10. لإزالة حدود تمييز من الخلايا المحددة.

(10 درجات)

س3/ تكلم بالتفصيل عن عن مجموعة طرق عرض المصنفات.

يتبع..

- 4/ ضع علامة صح امام العبارة الصحيحة وعلامة خطأ امام العبارة الخاطئة مع تصحيح الخطأ ان وجد.
1. من اجل الوصول الى الامر خيارات الحساب نستخدم تبويب عرض. (10 درجات)
 2. لغرض تسجيل الخطوات المتكررة واستدعائها وتطبيقها عند الطلب يتم عن طريق الامر ادراج.
 3. لعمل حساب لجميع الصيغ الموجودة في ورقة العمل يتم عن طريق مجموعة تدقيق الصيغة.
 4. لعمل تجانب لكافة نوافذ الاكسل المفتوحة على شكل عمودي او افقي او تتالي عن طريق الامر عرض.
 5. رمز الاذخال والالغاء الذي يظهر اثنا الكتابة يتواجد في شريط الحالة.
 6. لأجراء متابعة ونقش الى خلية مجاورة او اكثر عن طريق مجموعة تحرير.
 7. لإضافة كائن مضمن داخل ورقة عمل الاكسل يتم عن طريق تبويب نص.
 8. لأجراء عملية الدمج والتوسيط لخليتين او اكثر عن طريق مجموعة خلايا.
 9. لأجراء عملية الاحتواء التلقائي لارتفاع الصف عن طريق الامر حجم الصف.
 10. عند عمل اسهم واشارات من الخلايا الي تدخل ضمن ناتج خلية معينة الى الخلية التي تظهر بها نتيجة اجراء المعادلة يتم عن طريق مجموعة حساب:

5/ تقرير Pivot table يتم تصميمه لأغراض، اذكر الاسباب التي خصصت الى تصميمه مع ذكر فهمه بشكل مفصل. (10 درجات)

6/ أ. اختر الاجابة الصحيحة بما يناسبها. (10 درجات)

1. لأجراء حماية مصنف يتم عن طريق مجموعة
 - أ. ملف.
 - ب. تشفير.
 - ج. نافذة.
 - د. غير ذلك.
 2. حماية ومشاركة في المصنف هو السماح لعدة اشخاص بالعمل بنفس الوقت عن طريق مجموعة
 - أ. تغييرات.
 - ب. اعداد الصفحة.
 - ج. حساب.
 - د. غير ذلك.
 3. لتقسيم النافذة الى اجزاء متعددة يمكن تقسيم حجمها وتحتوي على طرق عرض المصنفات عن طريق مجموعة
 - أ. عرض.
 - ب. تقسيم.
 - ج. نافذة.
 - د. غير ذلك.
 4. لغرض الوصول الى الامر هوامش عن طريق مجموعة
 - أ. تخطيط الصفحة.
 - ب. اعداد الصفحة.
 - ج. خلايا.
 - د. غير ذلك.
 5. للوصول الى الامر خيارات عن طريق تبويب
 - أ. الصفحة الرئيسية
 - ب. الدراج.
 - ج. صيغ.
 - د. غير ذلك.
- ب. تكلم عن احد التاليين:

1. ما هي مميزات برنامج مايكروسوفت اكسل Microsoft Excel عددها بالتفصيل.

2. اوجه الاختلاف بين اكسل اكس بي xp و اكسل 2010.

مع تمنياتي لكم بالنجاح


رئيس القسم

أ.د. هادي عبد الوهاب عبد الامام

مدرس المادة

م. عمار نزار مصطفى

العبد



ملاحظة / الإجابة عن خمسة أسئلة فقط (توزع الدرجات بالتساوي لكل 10 درجات)
السؤال الاول / أختار الإجابة الصحيحة بما يناسبها

- ١- واحدة من بين الآتي ادناه لا تعتبر من ضمن أنواع تقسيم المخازن بحسب نوعية المخزون (أ- مخازن المواد المتنوعة ب- المخازن الخاصة ج- مخازن المناولة د- الخياران ب و ج معا)
- ٢- تكون نماذج طلبات الشراء (أ- مختلف شكلها من منظمة لأخرى ب- متشابه من حيث الشكل والمضمون ج- مضمونها واحد تقريبا د- الخياران أ و ج معا)
- ٣- أن ثبات التكاليف في الفترة المقبلة يعتبر هدف من أهداف : (أ- استراتيجية الشراء حسب الحاجة ب- استراتيجية المبادلة في الشراء ج- استراتيجية الشراء للتخزين د- غير ما ذكر)
- ٤- واحدة من بين الآتي لا تعتبر من مزايا مركزية التخزين من الناحية المادية : (أ- الوفرة في التكاليف الادارية ب- الوفرة في تكاليف الارض والمباني ج- زيادة كفاءة عمليات حماية المخزون د- جميع ما ذكر)
- ٥- واحدة من بين الآتي تعتبر من الانشطة التابعة للوظيفة الفنية (أ- الاتصال بالموردين ب- متابعة أمر الشراء ج- إصدار أمر الشراء د- الخياران أ و ب معا)

السؤال الثاني / صحح ما تحته خط فقط

- ١- أن الاحتفاظ بالمخزون تعني توفير ظروف تخزين ملائمة بحيث تحفظ هذه المواد من الفساد والتلف
- ٢- استخدام الطاقة العاطلة يقصد بها أن هناك بعض المنظمات قد تقوم أحيانا بصنع وشراء نفس الاصناف التي تحتاج اليها
- ٣- التمييز هو قبول الاحتياجات المشتراة للمنظمة من مواد وقطع وعدد وتجهيزات الخ
- ٤- يسمى الشراء التجاري بالشراء لغرض التحويل
- ٥- وظيفة المتابعة تشمل هذه الوظيفة القيام بالدراسات الخاصة بالأسواق والاسعار والتنسيق بذلك عن الفترة المقبلة

السؤال الثالث / تستخدم شركة الضوء الذهبي للصناعات الكهربائية سنوياً (٢٠٠٠) وحدة من صنف معين من المواد الكهربائية ، إذا علمت أن تكلفة أعداد الطلبية الواحدة (٥) وحدات نقدية وتكلفة الاحتفاظ بالمخزون للوحدة الواحدة (٠,٥) وحدة نقدية

المطلوب : الحل بالطريقة الجبرية لإيجاد : ١- حساب الحجم الاقتصادي لطلبية الشراء ٢- حساب التكلفة الكلية

السؤال الرابع / أذكر بالتفصيل الاعمال التي يقوم بها أمين المخزن

السؤال الخامس / عدد وأشرح بالتفصيل خمسة فقط من تصنيف العاملين في جهاز المشتريات

السؤال السادس / أجب عن الفرعين التاليين :

- أ- عدد خمس فقط من مهام وظيفة الشراء
- ب- أشرح بإيجاز عن استراتيجية الشراء لغرض المضاربة

مع تمنياتي لكم بالنجاح

العميد
أ.د. عبد الحسين توفيق شبيبي

رئيس القسم
أ.د. هادي عبد الوهاب عبد الإمام

مدرس المادة
م. علي نصيف صبر

المادة: القانون التجاري
المرحلة: الثانية
الوقت: ساعتان
التاريخ: ٨ / ١ / ٢٠٢٣



(١)
أسئلة الامتحان النهائي
الدور - الأول
الكورس الأول
للعام الدراسي
٢٠٢٤/٢٠٢٣



جامعة البصرة
كلية الإدارة والاقتصاد
قسم ادارة الاعمال
الدراسات الصباحية والمسائية

ملاحظة / الاجابة عن اربعة اسئلة فقط . وتوزع الدرجة بالتساوي على الاسئلة .

س ١ / ضع كلمة (صح) امام العبارة الصحيحة وكلمة (خطأ) امام العبارة الخاطئة مع تصحيح الخطأ ان وجد: (١٢.٥ درجة)

- ١- يمكن أن يطلق على أحد المحلات اسم " محلات جسيكا لتجارة الأزياء العصرية " .
- ٢- يستطيع التاجر من خلال السجل التجاري معرفة حقيقة مركزه المالي من حيث أصوله وخصومه وما لديه من سيولة نقدية .
- ٣- تخضع العمليات التجارية المتعلقة بالأوراق التجارية إلى أحكام القانون التجاري .
- ٤- يعد الصغير مميّزا عندما يكمل عامه السابع إلى وقت دخوله عامه الثامن عشر .
- ٥- التعامل بالأسهم والسندات : هو كل بيع او شراء او رهن او اي تصرف آخر يراد به المزايدة وتحقيق الربح .
- ٦- تتخذ قرارات مجلس الإدارة في الشركات بالأكثرية المطلقة للأعضاء كافة .

س ٢ / اختر الاجابة الصحيحة لكل مما يأتي :

(١٢.٥ درجة)

- ١- تكتسب الشركة _____ الشخصية المعنوية من تاريخ اصدار شهادة تأسيسها خلال ١٥ يوم من نشر الموافقة على تأسيس الشركة .
أ- البسيطة ب- المساهمة ج- التضامنية د- ليس من الاختيارات السابقة
- ٢- في شركات الاموال تكون مسؤولية الشركاء _____
أ- تضامنية ب- مطلقة ج- محدودة د- تمتد لجميع اموال الشركاء
- ٣- اخذت بعض القوانين ب _____ بشأن تحديد النظام المطلوب لتأسيس الشركة على النحو الذي يلائم دورها المهم والخطير في الحياة الاقتصادية .

أ- نظام الحرية ب- النظام الاقتصادي ج- النظام التجاري د- النظام المالي والمحاسبي

٤- تمثل _____ و _____ أداة ائتمان .

السفينة ، الصك ب- الصك ، الكمبيالة ج- الحوالة التجارية ، السند للأمر د- السند للأمر ، الصك

٥- لا يكتسب موظفو المحلات التجارية ومستخدميها صفة التاجر ، وذلك لان طبيعة العلاقة بينهم وبين اصحاب المحلات هي _____
أ- المضاربة ب- الربح ج- تبعية د- المشاركة

٦- يعد من قواعد القانون التجاري الذي ينضمن أحكاما تنطبق على التاجر الذي يخل بالثقة في الوسط التجاري _____
أ- نظام الإفلاس ب- السجل التجاري ج- حرية الاثبات في المواد التجارية د- الامتناع عن المنافسة غير المشروعة قانونا

س ٣ / صح ما تحته خط .

(١٢.٥ درجة)

- ١- التشريع عبارة عن مجموعة من المبادئ القانونية المستخلصة من استقرار المحاكم على اتباعها والحكم بمقتضاها .
- ٢- يؤدي السجل التجاري وظيفة قانونية ، فالمعلومات الاحصائية المأخوذة في السجل تساعد على إعطاء صورة واضحة وتقريبية للنشاط التجاري .
- ٣- التجارة هي رابطة بين شخصين أحدهما دائن وآخر مدين ، يحق بمقتضاها للدائن ان يلزم المدين بأداء معين .
- ٤- يطلق على الشركات المساهمة بالشركات المغلقة .
- ٥- ان استقلال الشخصية المعنوية للشركات العامة ليس مطلقا ، بل أنها تخضع عموما للقانون التجاري .
- ٦- السبب : وهو الغرض غير المباشر الذي جعل الملتزم يتعاقد .

س ٤ / عدد اختصاصات الهيئة العامة .

(١٢.٥ درجة)

س ٥ / عرف الصك ، ثم عدد البيانات الإلزامية التي يحتويها وفقا للقانون ، موضحا بالتالي ذلك بالرسم . (١٢.٥ درجة)

مع تمنياتي لكم بالنجاح

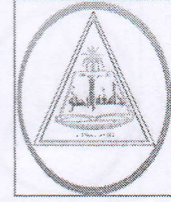
رئيس القسم
د. هادي عبد الوهاب

م.م ياسمين نجم السعد
د. زينب ياسين

المادة: ادارة الادارات
المرحلة: الثاني
الوقت: ساعتان
التاريخ: ٢٠٢٣ / \ / \



أسئلة الامتحان
النهائي
الدور - الاول
الكورس الاول
للعام الدراسي
٢٠٢٤/٢٠٢٣



جامعة البصرة
كلية الإدارة والاقتصاد
قسم ادارة الاعمال
الدراسات الصباحية
والمسائية

ملاحظة: الاجابة عن اربعة اسئلة فقط. توزع الدرجات على جميع الاسئلة بالتساوي.

س١/ ماهي اهم المهام الاستراتيجية لأنشطة الامداد وضحتها؟

س٢/ ماهي تطبيقات تكنولوجيا المعلومات في أنشطة الامداد وضحتها بالتفصيل؟

س٣/ اختر الاجابة الصحيحة ممايتي:

١- ان ادارة خدمات النقل تمارس نوعين رئيسيين من المهام هي.....(أ-حركة النقل وتصنيف البضائع ب-الشحن والحصول على اقل الاسعار ج-المناولة والتخزين د- الوظائف الادارية والمهام المتعلقة بالبحوث ه- ليس كل ما ذكر)
٢- المستند الذي يمثل وصف كامل للمواد المشحونة وتستخدمه كإيصال استلام وعلى اساسه تعوض الخسائر او التلف في البضاعة هي..... (أ-فاتورة الشحن ب- وصل الاستلام ج-بوليصة الشحن د-التأمين البحري ه-سند الشحن)

٣- من اهم وظائف المخازن الاساسية هي.....(أ-الحركة والتحويل واختيار الطلبيات والشحن ب-استقبال وتفريغ الشاحنات

ج-زيادة كلفة الصيانة للمعدات د-تنفيذ الطلبات الوارد ه-كل ما ذكر سابقاً)

٤- هوه نشاط يسعى لتحقيق التوازن والتكامل بين خطط التصنيع والتوزيع والنقل بحيث يتم تنفيذ اوامر العملاء في الوقت المناسب دون ان يترتب على ذلك أي زيادة في التكاليف .

ادارة الطلب ب-معالجة الطلبيات ج- ادارة المرتجعات د- ادارة العلاقات مع العملاء)

٥- من الاسباب التي تؤدي الى فعل السوط هي.....(أ- نقص المعلومات ب- الثقة ج- السلوك د- الاستجابة)

٦- نظام يسمح بالتطلع على خصائص المنتجات وكيفية توزيعها ويقلل من الاخطاء في تبادل المعلومات والبيانات ويقلل من المردودات ويخفض من تكاليف الامداد.....(أ-تخطيط موارد المنظمة ب-تقنية تبادل المعلومات الالكترونية ج-نظام المعلومات

الادارية د-انظمة المعلومات والاتصالات)

س٤/ صحح ماتحته خط في العبارات التالية:

١- نظام التحويل هوه النظام الذي لايسمح باي اعطال للوسائل التي قد تؤثر على البرامج الزمنية لادارة الامداد.

٢- من الوسائل التي تستخدمها المنظمات لتخفيض كلفة انشطت الامداد مايسمى بال**اخراج** مثل الحد من عدد المخازن.

٣- نظام النقل التقليدي ويشمل كل منظومة النقل من البنية الاساسية ووسائل النقل ونظام التشغيل حيث يساهم هذا النظام في جمع وتحليل وتبويب البيانات الخاصة باداء مكونات منظومة النقل.

٤- القيمة تعتبر من العوامل المؤثرة على تكلفة النقل والمرتبطة بالمنتج والتي تشير الى نسبة وزن المنتج الى حجمه.

٥- الخطوة التي تعمل على موازنة شبكة الامداد وفق نموذج SCOR هي المصدر

٦- الاستجابة هوه من معايير تقييم شبكة الامداد الذي يمثل القدرة على اداء مختلف الوظائف وفقا لما هو مبرمج والقدرة على تقليل الخطاء في عملية النقل والتوزيع مما يؤدي الى اضافة قيمة ملموسة لدى العملاء

س٥/ وضح بالرسم فقط:

أ- نظام المعلومات في الامدادات

ب- مكونات نظام النقل في شبكة الامداد

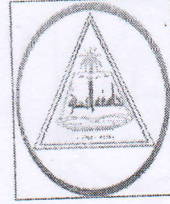
Hadji
رئيس القسم

مع تمنياتي لكم بالنجاح

مدرس المادة

أ.مهدي عبد الوهاب عبدالامام

م. ناجي صالح ضهد



ملاحظة: الإجابة عن خمسة أسئلة فقط لكل سؤال 10 درجات (الإجابة بالقلم الجاف الأزرق أو الأسود)

السؤال الأول: أ: يستطيع الافراد اشباع حاجاتهم ورغباتهم من خلال عملية التبادل الذي يتم بين الأطراف المتعاملة، وضح المقصود بالتبادل واذكر شروطه والمقصود بالصفقة والعلاقات.

السؤال الأول: ب: وضح موقع إدارة التسويق على وفق توجه المنظمة الفلسفي مع الرسم.

السؤال الثاني: تمر عملية تطوير المنتج الجديد بعدد من الخطوات والتي قد تتعدد او تنقلص تبعا لحدود التداخل او الانفصال فيما بينها ما هي هذه الخطوات وكيف يتم التعامل معها؟

السؤال الثالث: أ: على الرغم من المزايا الكثيرة من اعتماد دورة حياة المنتج الا انها لا تخلو من بعض الانتقادات في مجال اعمال المنظمة، ما هي هذه الانتقادات؟

السؤال الثالث: ب: يقوم أحد المصنعين بإنتاج منتج معين وبيعه الى تاجر الجملة بسعر 112 دينار وان تاجر المفرد يرغب بتحقيق عائد مستهدف بنسبة 20% وبيعه الى تاجر مفرد والذي يستهدف تحقيق عائد بنسبة 30%، ما هي كلفة الشراء للمستهلك؟

السؤال الرابع: أ: توفرت لديك البيانات التالية عن انتاج شركة الصباح الصناعية لانتاج المنتج س للشهر السابق، سعر بيع الوحدة الواحدة 2 دينار والتكلفة الثابتة للوحدة الواحدة 0.5 دينار والتكلفة المتغيرة للوحدة الواحدة 1.00 دينار وكان حجم المبيعات المتوقع نهاية الشهر 10000 وحدة. احسب: 1. نقطة التعادل بالكميات (الوحدات) 2. نقطة التعادل بالمبالغ 3. الربح او الخسارة المتحققة نهاية الشهر 4. وضح نقطة التعادل بالوحدات والمبالغ على الرسم.

السؤال الرابع: ب: وضح الأسباب التي تدعو المنظمات التي تطوير المنتجات الجديدة ؟
السؤال الخامس: اختر الإجابة الصحيحة:

1. من الانتقادات التي وجهت الى المفهوم التسويقي ومفهوم المستهلك هي ان الكلف:
أ. ارتفعت قليلا ب. انخفضت قليلا ج. ارتفعت جدا د. انخفضت جدا
2. البيئة التسويقية هي امتداد
أ. من داخل الى خارج المنظمة ب. من خارج الى داخل المنظمة ج. من خارج المنظمة الى السوق د. ليس مما ذكر
3. يمكن تسمية البيئة العامة ب
أ. البيئة الجزئية ب. البيئة الكلية ج. بيئة الصناعة د. بيئة المهمة
4. من اسوء مراحل دورة الاعمال هي
أ. الركود ب. شد الاحزمة على البطون ج. الكساد د. التضخم
5. نموذج القوى الخمسة لتحليل بيئة الصناعة قدمه
أ. ميشيل بورتر ب. وليم روبرت ج. فيليب كوتلر د. ليس مما ذكر

السؤال السادس: اجب عن فرعين فقط: أ. وضح بالرسم المفهوم البيعي ومفهوم المستهلك ب. مكونات البيئة الجزئية الخارجية ج. مكونات نظام المعلومات التسويقي

مع تمنياتي لكم بالنجاح

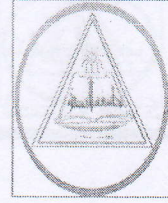
رئيس القسم
أ.د. هادي عبد الوهاب

مدرس المادة
م.م. نرجس عقيل أ.م.د. عمار يوسف ضجر

المادة: محاسبة متوسطة
المرحلة: الثانية
الوقت: ساعتين
التاريخ: ٢٠٢٤/١/١٥



أسئلة الامتحان
النهائي
الدور - الاول
الكورس الاول
للعام الدراسي
٢٠٢٣/٢٠٢٤



جامعة البصرة
كلية الإدارة والاقتصاد
قسم ادارة الاعمال
الدراسات الصباحية
والمسائية

الاجابة عن اربعة اسئلة ولكل سؤال ١٢,٥ درجة

س١: ما المقصود بالفروض المحاسبية؟ عددها واشرحها

س٢: الاتي الارصدة المستخرجة من ميزان المراجعة لشركة النيل التجارية للفترة المنتهية في ١٢/٣١
٩٩٠٠٠ أجمالي المبيعات، ٤٠٠٠ مردودات ومسموحات المبيعات، ٥٠٠٠ خصم مسموح به، ٤٥٠٠ بضاعة اول المدة،
٨٠٠٠٠ مشتريات، ١٠٠٠٠٠ مصروفات الشراء، ٢٠٠٠٠ مردودات ومسموحات المشتريات، ٨٥٠٠ خصم مكتسب، ٢٠٠٠٠٠
بضاعة اخر المدة، ٣٠٠٠٠ مصروفات تسويقية، ١١٥٠٠٠ مصروفات ادارية، ٢٥٠٠٠ الايرادات الاخرى، ١٠٠٠٠ المصروفات
الاخرى، ١٣٠٠٠ الأضريبة.

المطلوب: اعداد كشف الدخل للسنة المنتهية في ١٢/٣١.

س٣: توفرت لديك المعلومات الاتية المستخرجة من سجلات احدى الشركات في سنة ٢٠٢٠:

في ١/١ كان رصيد المدينون ١٥٠٠٠٠٠ دينار، ومخصص الديون المشكوك في تحصيلها ٧٥٠٠ دينار
وخلال السنة توفرت لديك المعلومات الاتية:

١- المبيعات النقدية بمبلغ ٥٠٠٠٠٠ دينار.

٢- تم اعدام ديون بمبلغ ٢٧٠٠٠٠ دينار ٣٠% يخص السنة السابقة.

٣- مبلغ الديون المستلمة والتي تخص البيع بالآجل كانت بمبلغ ٣٢٥٢٠٠ دينار.

٤- رصيد مدينون اخر المدة ٩٠٠٠٠٠ دينار.

المطلوب: تسجيل القيود اليومية وقيود التسوية اذا علمت ان الشركة تحتاط للديون المشكوك في تحصيلها بنسبة ٥%
من المبيعات الآجلة وتسجيل قيد الاقفال.

س٤: ظهرت الارصدة التالية لأحدى الشركات في ٢٠١٥/١٢/٣١

٢٠٠٠٠٠ أيجار، ٣٢٥٠٠٠ أيراد أوراق مالية، ١٥٠٠٠٠ تأمين، ٢٢٠٠٠٠٠ رواتب، ١٨٠٠٠٠٠٠ أيراد عقار، ١٥٠٠٠٠
مصاريف البيع. وعند الجرد تبين الاتي:

١- الايجار عن سنة اعتبارا من ٢٠١٥/١/١.

٢- ايراد الأوراق المالية الشهري ٢٥٠٠٠ دينار.

٣- التأمين عن سنة اعتبارا من ٢٠١٥/٩/١.

٤- الرواتب الشهرية ٢٠٠٠٠٠ دينار.

٥- ان الشركة وقعت عقد مع الغير ينص على تأجير العقار العائد لها في ٢٠١٥/٥/١ على ان يستلم الايجار نهاية كل
ثلاث شهر.

٦- هناك مصاريف بيع مستحقة لم تدفع بعد قدرها ٥٠٠٠٠ دينار.

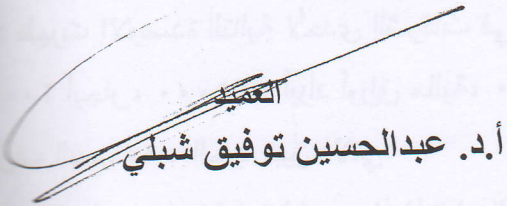
المطلوب: تسجيل قيود التسوية اللازمة.

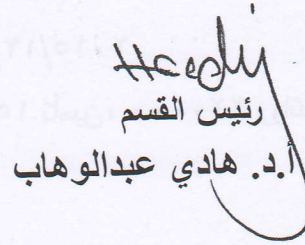
س ٥: في ٢٠٢٢/٧/٣٠ ظهر رصيد حساب البنك في سجلات الشركة التجارية دائنًا بمبلغ ٥٠٩٢٥٠ دينار، وظهر بموجب كشف الوارد من البنك دائنًا بمبلغ ١٢٣٥٠٠ دينار وعندما قامت الشركة بإجراء التدقيق لغرض المطابقة تبين الآتي:


- ١- هناك ايداعات مبلغها ٢٠٧٥٠٠ دينار تخص شركة أخرى سجلها البنك لحساب الشركة بالخطأ.
- ٢- اعد البنك شيك مبلغه ٤٢٥٠٠ دينار بسبب عدم كفاية رصيد المدين.
- ٣- اجمالي المبالغ المرسلة للإيداع ولم تصل للبنك بعد ٨٢٥٢٥٠ دينار، كما وبلغت الشيكات التي تم تحريرها في الشركة ولم يتقدم اصحابها لسحبها من المصرف ٧٥٠٠٠ دينار.
- ٤- هناك فوائد مدينة على الشركة بمبلغ ٢٠٥٠٠ دينار استقطعتها البنك من حساب الشركة ولم يرد اشعار بها.
- ٥- حصل البنك لصالح الشركة كمبيالة مبلغها ٤٠٠٠٠٠٠ دينار مع قيمة قرض بلغت ٩٠٠٠٠٠٠ دينار، واستقطع مصاريف تحصيل ٧٥٠٠ دينار ولم يرد بها اشعارات.
- ٦- حررت الشركة شيكا لأمر المجهز احمد بمبلغ ١٧١٠٠٠٠ دينار وقد تم صرفه من قبل البنك وتبين فيما بعد ان محاسب الشركة قد سجل مبلغ الشيك في السجلات بمبلغ ١١٧٠٠٠٠ دينار.

المطلوب: اعداد كشف مطابقة حساب البنك لشهر تموز وتسجيل قيود التسوية اللازمة.

مع تمنياتي لكم بالنجاح


أ.د. عبد الحسين توفيق شبلي


أ.د. هادي عبدالوهاب


م. علي ماجد
مدرس المادة

المادة: جرائم حزب البعث
المرحلة: الثانية
الوقت: ساعتان
التاريخ: ٢٠٢٣ / ١ / ١٦



أسئلة الامتحان النهائي
الدور - الاول
الكورس الاول
للعام الدراسي
٢٠٢٤/٢٠٢٣



جامعة البصرة
كلية الإدارة والاقتصاد
قسم ادارة الاعمال
الدراسات الصباحية والمسائية

ملاحظة // الاجابة عن اربعة اسئلة فقط ، وتوزع الدرجة على الاسئلة بالتساوي .

س١ / ضع كلمة (صح) امام العبارة الصحيحة وكلمة (خطا) امام العبارة الخاطئة مع تصحيح الخطأ ان وجد: (١٢.٥ درجة)

- ١- في دستور ١٩٧٠ ، كان حزب البعث المنحل يرفض الديمقراطية الشعبية واستبدالها بالديمقراطية البرلمانية .
- ٢- لم يكن هناك حرية للإعلام ، إذ كانت الحكومة تحتكر الصحف وإدارة المحطات الإذاعية والتلفزيونية ، اما الإنترنت فكان متاح وحر .
- ٣- عانى الشعب العراقي من الحكم الشمولي الديمقراطي الدكتاتوري القائم آنذاك .
- ٤- كان الرئيس السابق يجمع بين منصب رئيس السلطة التشريعية ورئيس السلطة التنفيذية .
- ٥- التقت مطامح الشعب العراقي في تفكيك الحكم الشمولي ، والتحول إلى الحكم الديمقراطي مع هذا الحراك الدولي .
- ٦- يؤدي استعمال الأسلحة الكيماوية إلى محو الحياة البرية الأرضية .

س٢ / اختر الإجابة الصحيحة لكل مما يأتي :

- ١- تم إلغاء القانون الأساسي في العهد
أ- الملكي ب- العهد الجمهوري (١٩٥٨-١٩٦٨) ج- العهد الجمهوري (١٩٦٨-٢٠٠٣) د- ليس من الاختيارات السابقة
- ٢- اصدر النظام قانون المجلس الوطني رقم ٢٨٨ لعام ١٩٧٠ والذي اعتمد على مبدأ
أ- التعيين ب- الاختيار ج- الانتخاب د- الترشيح الحر
- ٣- عام ١٩٧٣ أسست _____ التي ضمت حزب البعث العربي والحزب الشيوعي والحزب الديمقراطي الكردستاني
أ- الجبهة الوطنية القومية التقدمية ب- ميثاق العمل الوطني ج- النظام الأساس د- مجلس قيادة الثورة
- ٤- كان النظام السابق يتعامل مع الشعب العراقي على أساس _____ إذ كان يتعامل بمنهج طائفي او عرقي.
أ- التمييز والإقصاء ب- الزجر والهدوء ج- حرية الرأي والتعبير د- الرأي الواحد والثقافة الواحدة
- ٥- إضافة إلى القضاء العادي ، فقد كان هناك قضاء آخر تمثل بإنشاء _____
أ- محكمة الثورة ب- قضايا سياسية ج- محاكم عادية د- محاكم مختصة
- ٦- كانت السلطة التنفيذية والسلطة التشريعية _____ في النظام السابق
أ- مدمجة ب- مستقلة ج- منفصلة د- متداخلة نوعاً ما

س٣ / اجب عن كل مما يأتي :

- ١- اشرح العهد الجمهوري في العراق (١٩٥٨ - ١٩٦٨) .
- ٢- اشرح النظام الملكي (١٩٢١ - ١٩٥٨) .

س٤ / ابحث في اعدام العسكريين والمدنيين من قبل النظام السابق ، مع الاستشهاد بخمسة من قرارات مجلس قيادة الثورة بهذا الشأن .
(١٢.٥ درجة)

س٥ / عرف العدالة الانتقالية ، ثم ابحث في اهدافها بالتفصيل .
(١٢.٥ درجة)

مع تمنياتي لكم بالنجاح

رئيس القسم

د. هادي عبد الوهاب

مدرس المادة

أ.د. حسين عبد القادر معروف د. زينب ياسين

استمارة

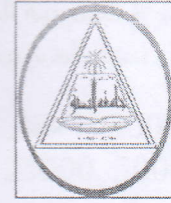
المرحلة الثانية

المرحلة	العدد	القيمة
المرحلة الأولى	1000	1000000
المرحلة الثانية	1000	1000000
المرحلة الثالثة	1000	1000000

المادة: الإدارة المالية
المرحلة: الثالثة
الوقت: ساعتان
التاريخ: 27 / 12 / 2023



أسئلة الامتحان
النهائي
الدور - الأول
الكورس الأول
للعام الدراسي
2024/2023



جامعة البصرة
كلية الإدارة والاقتصاد
قسم إدارة الأعمال
الدراسات الصباحية
والمسائية

*ملاحظة / الاجابة عن اربعة اسئلة وتوزع الدرجات بالتساوي لكل سؤال 12.5 درجة)
س(١) من المعلومات الآتية للشركة الهندسية كما في ١٢/٣١ :-

- 1 - صافي المبيعات = 4500000
- 2 - هامش الربح = 4%
- 3 - حق الملكية = 375000
- 4 - مجموع المطلوبات الى حق الملكية = 80%
- 5 - دوران الموجودات الثابتة = 20
- 6 - نسبة التداول = 3
- 7 - النسبة السريعة = 2
- 8 - مدة التحصيل = 18 يوم

المطلوب :- احسب الآتي:

- 1 - الحسابات المدينة.
- 2 - المخزون.
- 3 - معدل العائد على الموجودات.
- 4 - معدل العائد على حق الملكية.

س(٢) وضح ما يأتي بدقة وتركيز:

- 1 - وضح هدف المسؤولية الاجتماعية وما هي المشاكل المتعلقة بها وكيف تم حلها.
- 2 - وضح كيفية تنظيم منشآت الأعمال (الشركات المساهمة).

س(٣) من المعلومات الآتية اكمل الميزانية التالية :-

- 1 - حق الملكية = 200000.
- 2 - نسبة المطلوبات المتداولة الى اجمالي الديون = 40%.
- 3 - مجموع اجمالي الديون الى حق الملكية = 40%.
- 4 - معدل دوران الموجودات = 2.
- 5 - نسبة الموجودات الثابتة الى مجموع الموجودات = 50%.
- 6 - دوران المخزون = 8.

الميزانية العمومية كما هي في 12/31

المطلوبات	الموجودات
المطلوبات المتداولة	النقد
القروض	المخزون
اجمالي الديون	مجموع الموجودات
حق الملكية	المتداولة 150000
مج المطلوبات	الموجودات الثابتة
	مجموع الموجودات

س(٤) حققت شركة الجمال صافي دخل تشغيلي مقداره 400000 دينار لهذا العام وحققت دخل مكتسب من مقسوم

الاجمالي 100000 انفس العام من دخل المقسوم خضوع لاعفاء ضريبي 70%

- 1 - حساب الضريبة على كل من الدخل التشغيلي والدخل المكتسب من الأرباح.
- 2 - حساب مجموع الضريبة المستحقة على الشركة.
- 3 - حساب معدل نسبة الضريبة والضريبة الحدية للشركة.

س(5) مشروع انتاجي بلغت كلفته 1000000 دينار وعمره الانتاجي 5 سنوات وقيمة الانقاص = 100000 وعدد وحدات الانتاج خلال العمر الانتاجي هي 10000, 15000, 20000, 25000, 30000 ونسبة الضريبة - 40%.

المطلوب:-

- 1 - حساب قسط الاندثار بطريقتي الخط المستقيم وطريقة وحدات الانتاج.
- 2 - حساب الوفر الضريبي بالطريقتين اعلاه ولثلاث سنوات الاولى.

رئيس القسم
أ.د. هادي عبد الوهاب

مع تمنياتي لكم بالنجاح

مدرس المادة
أ.م.د. ندى عبد القادر

العميد
أ.د. عبدالحسين توفيق شبلي

المادة: إدارة المصارف
المرحلة: الثالثة
الوقت: ساعتان
التاريخ: السبت 30 /
2023 / 12



أسئلة الامتحان
النهائي
الدور الاول
الكورس الاول
للعام الدراسي
2024/2023



جامعة البصرة
كلية الإدارة والاقتصاد
قسم ادارة الاعمال
الدراستين الصباحية
والمسائية

ملاحظة :- الإجابة عن أربعة أسئلة فقط وتوزع الدرجات بالتساوي.

السؤال الأول :- أختار الإجابة الصحيحة للفقرات أدناه بوضعها في جدول كالآتي :- (12.5 درجة)

رقم الفقرة	حرف الاختيار	كتابة الاختيار

1- راس مال المصرف الاساسي يتكون من :- ا- راس المال المدفوع والاحتياطيات فقط. ب- راس المال المدفوع والاحتياطيات والارباح المحتجزة فقط. ج- راس المال المدفوع والارباح المحتجزة فقط.

2- الودائع الثابتة نوعين :- ا- الودائع الثابتة لاجل والودائع الثابتة باخطار سابق . ب- الودائع الثابتة لاجل والودائع الحكومية . ج- الودائع الثابتة باخطار سابق وودائع القطاع المختلط .

3- ايرادات النشاط الجاري هي :- ا- ايرادات العمليات المصرفية + ايرادات الاستثمار ب- ايرادات الخدمية + ايرادات التحويلية ج- ايرادات الاستثمار + ايرادات الاخرى .

4- الربحية احد الاهداف المصرفية الرئيسية الثلاثة (الربحية والسيولة والامان) فهي :- ا- اداة تخطيطية ورقابية ينظر اليها المساهمون والمودعون والمقرضون اضافة الى ادارة المصرف والجهات الرقابية. ب- هدف استراتيجي يمكن المصرف من النمو والاستمرارية. ج- الاثنان معا .

5- تعد المصارف مكانا للخطر لانها :- ا- تقوم بتقبل الخطر واجراء العمليات اللازمة عليه وتحويله الى الاخرين عن طريق التوريق والتامين او الرقابة او محاولة السيطرة عليه ب- تقوم باتخاذ قرارات خاطئة ج- تقوم بتنفيذ القرارات بشكل خاطئ او عدم اتخاذ القرار في الوقت المناسب .

6- الوديعة لا تكون الا :- ا- مجوهرات واوراق مالية . ب- وثائق ثمينة ومهمة . ج- اموال نقدية.

7- ان زيادة راس المال الممتلك من خلال احتجاز الارباح تؤثر على كل من :- ا- راس المال الممتلك فقط . ب- راس المال الحر فقط . ج- راس المال الممتلك وراس المال الحر فقط .

8- ان هدف ادارة المصرف تعظيم القيمة السوقية للمصرف (القيمة السوقية لأسهمه) وهذا الامر يتطلب منها التركيز على :- ا- ربحية المصرف. ب- مخاطر المشاريع الاستثمارية والائتمانية التي تدخل بها. ج- الاثنان معا .

9- تفرض التشريعات المصرفية ان لايزيد حجم الودائع التي يستلمها المصرف الى راس ماله الممتلك عن :- ا- خمس مرات بقدر رأسماله الممتلك. ب- عشر مرات بقدر رأسماله الممتلك. ج- ثلاث مرات بقدر رأسماله الممتلك.

10- تمتاز الاسهم الممتازة بانها :- ا- اداة مالية هجينة تجمع بين صفات السهم العادي وصفات السند ب- اداة مالية هجينة تشبه صفات السهم العادي فقط ج- اداة مالية تشبه صفات السند فقط .

المادة: إدارة المشاريع
المرحلة: الثالثة
الوقت: ساعتان
التاريخ: ٢٠٢٣/١/٢٣



أسئلة الامتحان
الدور -
الكورس الاول
للعام الدراسي
٢٠٢٤/٢٠٢٣



جامعة البصرة
كلية الإدارة والاقتصاد
قسم ادارة الاعمال
الدراسات الصباحية
والمسائية .

ملاحظة : ١- الاجابة على ٥ اسئلة فقط ٢- الاسئلة تتكون من صفحتين ٣- توزع الدرجات بالتساوي

السؤال الاول / اختيار الاجابة الصحيحة ، ضع الاجابة في جدول من خلال كتابة رقم الفقرة وحرف الاجابة	
تعتبر جدولة المشروع اطاراً منسقاً لتخطيط و.....	A- توجيه المشروع B- مراقبة المشروع C- توجيه ومراقبة المشروع D- عمل المشروع E- غير ذلك
من طرق اعداد الموازنة التقديرية هي.....	A- طريقة التقديرات الموزعة B- طريقة التقديرات الثابتة C- طريقة التقديرات المتنوعة D- غير ذلك
يعتبر مرض الارتباط بالمشروع من سلبيات المشروع	A- جزء من التنظيم B- المصفوفة C- الصرف (المستقل) D- الكل صح E- الكل خطأ
هل تمتلك الشركة الكفاءات اللازمة لانجاز المشروع ؟ ، هو واحد من الاسئلة التي تطرح عند المحاولة في :	A- زيادة قائمة المشاريع B- المفاضلة بين المشاريع C- تنفيذ المشاريع D- الكل صح E- الكل خطأ
فيما يلي عدد من وظائف ادارة المشروع عدا واحدة :	A- تنظيم المشروع B- الرقابة على المشروع C- توجيه المشروع D- تصميم المشروع E- الكل صح F- الكل خطأ
تحتمل طريقة المخصصات التقديرية.....	A- نسبة متساوية B- نسبة قليلة C- نسبة متوازنة D- نسبة عالية E- الكل صح F- الكل خطأ
تمر عملية جدولة المشروع في ثلاث مراحل اساسية وهي على التوالي :	A- مرحلة التخطيط B- مرحلة جدولة الانشطة C- مرحلة الرقابة D- الكل صح E- الكل خطأ
في مرحلة..... يقل مستوى الصراع لمصلحة التعاون، ويبدأ الفريق بالتماسك.	A- التشكل B- المناشدة C- العصف D- الانجاز E- الكل صح F- الكل خطأ
للمشروع عمر زمني محدد وانهاؤه بالوقت المحدد دون تأخير يعتبر احد الاهداف.....	A- الرئيسية B- الثانوية C- المزدوجة D- النشطة E- الكل صح F- الكل خطأ
..... هي ادوات جمع بيانات وهنا يجب الاهتمام بكلفة وتوقيت وصحة البيانات حتى تكون صالحة في عملية الاختيار.	A- المقابلة B- الاستبانة C- الملاحظة D- الكل صح E- الكل خطأ

السؤال الثاني / الفرع أ : - عدد ايجابيات ان يكون المشروع جزء من التنظيم الوظيفي .

السؤال الثاني/الفرع ب: عندما تدار المنظمة بالمشروع فأنها تكون قادرة على تحقيق عدة فوائد عددها.

السؤال الثالث / ارسم فقط ١- دورة حياة المشروع . ٢- المشروع جزء من التنظيم الوظيفي.

السؤال الرابع / الفرع أ: اشرح بالتفصيل أعداد خطة المشروع .

السؤال الرابع / الفرع ب : اشرح بدقة كيف يتم تصنيف المشاريع .

11- في السياسة المخاطرة لاستخدام اموال المصرف يذهب المصرف بعيداً في تحقيقه لهدف :- ا- السيولة ب- الربحية ج- الاثنان معا .

12- الموجودات ذات المخاطرة = ا- مجموع الموجودات - (النقدية في الصندوق ولدى المصارف الاخرى + السندات الحكومية + القروض الى الحكومة ب- مجموع الموجودات - الموجودات الثابتة ج- مجموع الموجودات - الاستثمارات .

السؤال الثاني :- وضح بالشكل فقط (بدون شرح) أ- أنواع المخاطر المصرفية التي تتعرض لها المصارف التجارية . ب- خصائص البنك المركزي . (12.5 درجة)

السؤال الثالث :- أودع محمد مبلغاً قدره (200000) دينار في مصرف الرشيد وكانت نسبة الاحتياطي القانوني للمصرف (25%)، معدل العائد المتاح للمصرف (15%)، وعدد الصكوك المسحوبة على الزبون سنوياً (60000) صك، كلفة الصك الواحد (3000) دينار، عدد الصكوك المسحوبة لصالح الزبون سنوياً (50000) صك، كلفة الصك الواحد (2000) دينار، علماً بأن المصرف يقدم خدمات إضافية للزبون قيمتها (5000) دينار. المطلوب احتساب:

أحجم الأرباح التي يحققها المصرف .
ب- معدل الفائدة الضمنية . ملاحظة هامة :- كل المعادلات المطلوبة في الحل يتم ادراجها أولاً ومن ثم التطبيق للحل . (12.5 درجة)

السؤال الرابع :- اجب بعبارة صح او خطأ عن العبارات المالية المصرفية التالية (بدون تصحيح العبارة الخطأ) :- ملاحظة هامة :- (تكتب العبارات كاملة في دفتر الإجابة ويؤشر امام كل منها كلمة صح او خطأ حسب إجابة الطالب)
1- تتباين مصادر اموال المصرف من حيث الأجل والكلفة والحجم .
2- نسبة الرصيد النقدي تعكس قدرة الاحتياطيات الأولية والثانوية للمصرف في مواجهة سحبيات ودائعه.
3- يمكن النظر لرأس مال المصرف بمنظور واسع (حديث) ليشمل الأسهم العادية والاحتياطيات والارباح المحتجزة .
5- في عملية غسيل الأموال تسمى مرحلة استثمار الأموال المغسولة في الاستثمار التجاري الاعتيادي بالتجميع او التكديس .
6- تعتبر إدارة المخاطر فن وعلم ومهنة في ان واحد لانها تستند على القواعد والاسس والإجراءات والخبرة فقط .

السؤال الخامس :- أ- كيف تقاس ربحية المصرف اذا علمت ان :- صافي الربح بعد الضرائب 300 مليون دينار، مجموع الودائع 1200 مليون دينار ، حق الملكية 600 مليون دينار ، مجموع الموجودات 2000 مليون دينار. ملاحظة هامة :- 1- كل المعادلات المطلوبة في الحل يتم ادراجها أولاً ومن ثم التطبيق للحل . 2- المقارنة التاريخية والقطاعية غير مطلوبتان (بدون مقارنة) . ب- اجتهد المصرفيون في تحديد العوامل التي يدرسها المصرف عن زبائنه . ناقش بالتفصيل العبارة أعلاه . (12.5 درجة)

مع تمنياتي لكم بالنجاح
رئيس القسم
أ. د. هادي عبد الوهاب عبد الامام
العميد
أ. د. عبد الحسين توفيق شبلي

مدرس المادة
أ. د. عروبة رشيد علي البدران الموسوي

السؤال الخامس / اكمل الفراغات التالية، ضع الاجابة في جدول من خلال كتابة رقم الفقرة والكلمات المناسبة.

١	تساعد في تحديد التاريخ المتوقع لانتهاء المشروع .
٢	أن هو وسيلة للوصول الى الاهداف وليس في حد ذاته.
٣	في مرحلة العصف يبدأ العاملون في التحقق من حجم العمل الملقى على عاتقهم ويكون عليهم ضغطا كبيرا ويميلون الى و.....
٤	من خصائص فريق العمل الناجح ، وجود الالتزام للفريق .
٥	يركز مدير المشروع على عدد من الصفات عند اختياره لاجزاء الفريق مثل (ان يمتلكون مهارات.....)
٦	المشروع مشكلة معروفة الحل يتم اكمالها باستخدام..... وغير روتينية.
٧	يقصد بالحوسبة تحويل نماذج الاختيار من يدوية الى
٨	تعرف ادارة المشاريع على انها حل المشكلات ضمن الوقت المحدد مسبقاً وباستخدام الموارد المتاحة.

السؤال السادس / صحح ما تحته خط ، ضع الاجابة في جدول من خلال كتابة رقم الفقرة ومقابلها الاجابة الصحيحة

١	من سلبيات احتضان المشروع في الاقسام الوظيفية ، حصوله ضعف في عملية حث العاملين بسبب عدم صلاحية هذا الشكل التنظيمي للمشاريع الكبيرة والضخمة والمعقدة
٢	يعتمد مفهوم اعداد الخطة الابتدائية على مفهوم <u>تكامل نشاطات وعمليات المشروع من خلال ترتيب الانشطة من الاسفل الى الاعلى.</u>
٣	مشاريع البحث والتطوير في هذا النوع يتم احداث تحسين طفيف على المنتجات القائمة مثل تقليل الكلفة وتحسين التغليف وزيادة الجودة.
٤	طريقة المخصصات التقديرية تحتسب هذه الطريقة المخصصات التقديرية للمشروع من خلال الاعتماد على <u>الاساليب الكمية والرياضية والادارة المالية.</u>
٥	المدرء الموظفين وهم <u>اجزاء الفريق المؤهلين فنياً وادارياً والذين يمتلكون المهارات اللازمة لاداء المهام.</u>

مع تمنياتي لكم بالنجاح

رئيس القسم
أ.د. هادي عبدالوهاب عبدالامام

العميد
أ.د. عبدالحسين توفيق شبلي

مدرس المادة
أ.م. زيد صادق ماجد

المادة : اقتصاديات الاعمال
المرحلة : الثالثة
الزمن : ساعتان
التاريخ : 2024 /1/7



أسئلة الامتحان النهائي
الدور الاول
العام الدراسي
2024-2023



جامعة البصرة
كلية الإدارة والاقتصاد
قسم إدارة الاعمال
الدراسات الصباحية والمسائية

ملاحظة : أجب عن خمسة أسئلة فقط وتوزع الدرجات بالتساوي لكل سؤال 10 درجات

السؤال الأول : ما العوامل المؤثرة على مرونة الطلب ؟ اشرحها محددًا أي منها يرتبط بعلاقة طردية وأي منها يرتبط بعلاقة عكسية مع مرونة الطلب .

السؤال الثاني : قدر دالة الطلب ثم احسب الكمية المطلوبة عندما يكون السعر (P=6.5) ، اذا علمت ان :

P	10	9.5	9	8.5
Q	7	8	9	10

السؤال الثالث : أ - حدد اتجاه حركة المنتج وعرف معدل الاحلال الحدي واكتب قانون ايجاده اذا كانت صيغته

$$MRTS_{L/K}$$

ب - ما علاقة الاقتصاد الجزئي باقتصاديات الاعمال ؟ وضح ذلك بالتفصيل .

السؤال الرابع : هل ان كل أجزاء منحنى الناتج المتساوي اقتصادية ؟ وضح ذلك معززا اجابتك بالمعادلات والشكل البياني الدقيق .

السؤال الخامس : اثبت العلاقة بين المعدل الحدي للاحلال الفني $MRTS_{K/L}$ والناتج الحدي للعمل MP_L والناتج الحدي لرأس المال MP_K

السؤال السادس : حدد نوع السلعتين والعلاقة بينهما ارسم منحنى طلب السلعة الاصلية اذا علمت ان :

$$Q1X = 11 , Q2X = 2 , P1Y = 5 , P2Y = 10$$

عميد الكلية

أ.د. عبدالحسين توفيق شبلي

المدير العام

أ.د. هادي عبدالوهاب عبدالامام

مدرس المادة

د.محمود قاسم داود

المادة: إدارة الاستراتيجية
المرحلة: الثالثة
التاريخ: 2024-1-9
الوقت: ساعتين
النماذج: جميع النماذج



أسئلة الامتحان
الدور - الاول
للعام الدراسي
2024/2023



جامعة البصرة
كلية الإدارة والاقتصاد
قسم ادارة الاعمال
الدراسات الصباحية
والمسائية

ملاحظة: الاجابة على خمسة اسئلة فقط (لكل سؤال 10 درجات)

س1: عرف ما يأتي

1- الاختيار الاستراتيجي 2- التهديدات 3- القوة الدافعة 4- الامدادات الخارجية 5- رسالة المنظمة

س2: اكتب كلمة (صح) امام العبارة الصحيحة وكلمة (خطأ) امام العبارة الخاطئة .

- 1- يعبر حجم الدوائر في مصفوفة BCG عن الاحجام النسبية لوحدة الاعمال الاستراتيجية.
- 2- تتضمن الانشطة المساعدة او الداعمة في تحليل سلسلة القيمة خمسة مجالات رئيسية.
- 3- حدد Mintzberg خمسة خصائص ومهارات اساسية للمديرين الاستراتيجيين.
- 4- ادى اهتمام الرواد والباحثين بتأثير العوامل البيئية للمنظمة ككل الى استبدال مصطلح سياسة الاعمال بمصطلح الادارة الاستراتيجية.
- 5- كلما كانت عوائق الدخول للمنافسين الجدد قليلة او بسيطة كلما مكنهم ذلك من الدخول الى الصناعة وتحقيق النجاح في اعمالهم.
- 6- يعتمد اسلوب تحليل النسب على تحديد مدى اداء نشاط او متغير معين عن طريق ايجاد العلاقة بين متغيرين او اكثر مما ينتج عنه ارقاماً تأخذ شكل نسبة او معدل معين.
- 7- عرف Chandler الاستراتيجية بأنها تلك الفعاليات والخطط التي تضعها المنظمة على المدى البعيد بما يكفل تحقيق التلائم بين المنظمة ورسالتها والبيئة المحيطة بها بطريقة فاعلة وكفوءة.
- 8- إن معظم المنظمات تواجه سهوله في وضع حدود فاصلة بين عوامل البيئة الخارجية الكلية وبيئة الصناعة وعوامل البيئة الداخلية .
- 9- ان معظم المنظمات وخصوصاً المنظمات الكبير تمتلك ثقافة سائدة وكذلك مجموعة من الثقافات الثانوية تعكس ماواجهه بعض اعضاء المنظمة من مشاكل او حالات معينة.
- 10- وفقاً للنظرية الموقفية هناك استراتيجية مثلى تصلح لمنظمة معينة أو اكثر في ظروف معينة وفي وقت محدد.

س3: بين مالمقصود برؤية المنظمة ؟ ثم وضح بشكل دقيق اهم المصاد والمرجعيات التي تستنير بها المنظمة عند صياغة رؤيتها؟

س4: اجب عن فرع واحد فقط

أ- بين من خلال جدول وبشكل واضح اهداف المتعاملون مع المنظمة.

ب- بين من خلال جدول وبشكل واضح العوامل الرئيسية والفرعية للبيئة الخارجية الكلية في خلق الفرص والتهديدات للمنظمة.

يتبع لطفأ.....

س5: اختر الاجابة الصحيحة مما يأتي (اكتب الحرف وكلمة الخيار).

1- تتجه المنظمة الى اتباع استراتيجيات..... عندما تتوافر امامها فرص مناسبة لكنها تعاني من نقاط ضعف قد تمنعها من استغلال تلك الفرص المتاحة.

A-دفاعية B-علاجية C-انكماشية D-هجومية

2- القدرة على توفير خدمات المجموعة إضافة من المستهلكين أو التوسع في الدخول إلى اسواق جديدة تعتبر....

A-فرصة B-نقطة قوة C-نقطة ضعف D-غير ذلك

3- يشار لها بكونها تلك الوحدة التي تقوم بإنتاج سلعة أو خدمة في سوق محدد أو مجموعة معينة من المستهلكين أو منطقة جغرافية معينة.

A-الاستراتيجية الكلية B-محفظة الاعمال الاستراتيجية C-وحدة الأعمال الاستراتيجية D-غير ذلك

4- بالرغم من تعدد الاستراتيجيات و/أو اختلاف مستوياتها لكنها ينبغي ان تعمل بشكل متكامل ومتفاعل من اجل تحقيق

.....

A-التكامل الاستراتيجي B-التوجه الاستراتيجي C-الاختيار الاستراتيجي D-غير ذلك

5- تتسم.....الناجحة بتوصيف دقيق بكيفية تحقيق المنظمة لاهدافها المرغوبة عبر الاعمال والانشطة التي تؤديها سواء اكانت انتاجية ام خدمية.

A-الرسالة B-القيادة C-الغايات D-غير ذلك

6- يطلق على عوامل البيئة الخارجية الكلية تسمية العوامل

A-المباشرة B-غير المباشرة C-الشاملة D-غير ذلك

7- في مصفوف ال BCG الابقاء على مربع..... يتطلب من المنظمة او وحدة الاعمال الاستمرار في مجال الاستثمارات والانفاق على البحث والتطوير والترويج والتوزيع والسعي لخفض التكاليف.

A-علامات الاستفهام B-النجوم C-ادرار النقدية D-غير ذلك

8- نمو قوة التفاوض لدى المشتريين أو المجهزين هي نقطة

A-تهديد B-فرصة C-نقطة قوة D-نقطة ضعف

9- يعبر عن الفارق بين الصادرات والواردات السلعية للدولة ب....

A-معدل نمو الاحتماعي B-معدلات الفائدة C-الميزان التجاري D-غير ذلك

10-(هدف الإنتاج ، هدف الموارد المالية ، هدف الموارد البشرية ، هدف التسويق)هي اهداف تقع ضمن

A-الاهداف المبرمجة B-الاهداف المتعددة C-الاهداف الرسمية D-الاهداف الوظيفية

س6: تتمحور نقاط الضعف في مجموعة بوسطن الاستشارية BCG في مجموعة من النقاط، عدد هذه النقاط بشكل واضح ودقيق؟

مع تمنياتنا لكم بالنجاح والتوفيق

عميد الكلية

د. عبدالحسين توفيق

رئيس القسم

د. هادي عبدالوهاب

مدرس المادة

د. عباس عبدالحمد

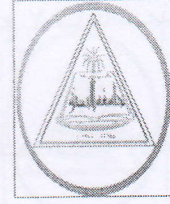
مدرس المادة

م.م محمد عبدالرضا

المادة: محاسبة تكاليف
المرحلة: الثالثة
الوقت: ساعتين
التاريخ: ٢٠٢٤ / ١ / ١١



أسئلة الامتحان
النهائي
الدور - الاول
الكورس الاول
للعام الدراسي
٢٠٢٤/٢٠٢٣



جامعة البصرة
كلية الإدارة والاقتصاد
قسم ادارة الاعمال
الدراسات الصباحية
والمسائية

الاجابة عن اربعة اسئلة ولكل سؤال ١٢,٥ درجة

س ١: ما هي وظائف محاسبة التكاليف؟ عددها واشرحها بإيجاز
س ٢: يعمل العامل حسن ٨ ساعات في اليوم بواقع ٦ أيام في الاسبوع بمعدل اجر ٢٠٠٠ دينار في الساعة. وادناه بعض البيانات التي تم استخراجها من بطاقة الوقت والانتاج لهذ العامل:
١- ١ ساعة اسبوعياً لدخول ومغادرة العامل وتناول الطعام.
٢- ٢ ساعة خلال الاسبوع وقت ضائع بسبب توقف المكين لحدوث عطل فيها.
٣- ٤ ساعات خلال الاسبوع كساعات عمل اضافية لإنجاز طلبية مستعجلة بمعدل ١٥٠% من معدل الاجر الاعتيادي.
المطلوب: تحليل الوقت واحتساب الاجر وتحليل الاجر فقط.

س ٣: ان عدد الوحدات الفعلية في المخزن من المادة (ص) هي بمقدار ٥٤٥٠ وحدة والوحدات التالفة ١٠٠ وحدة، و ان الرصيد الدفترى في يوم الجرد هو ٥٥٠٠ وحدة وان كلفة الوحدة الواحدة ٥,٢٥٠ دينار وقد حددت نسبة التلف والعجز الطبيعي بنسبة ٢% من الرصيد الدفترى.
المطلوب: اثبات ومعالجة كلفة التلف والعجز اذا علمت ان وحدات التلف والعجز غير الطبيعي قد بيعت بخسارة ٧٠% من كلفتها.

س ٤: كانت حركة الصنف للمادة ص خلال شهر كانون الثاني كما يلي:

١/١ كان الرصيد ٢٥٠ وحدة بسعر ١ دينار

١/٥ الوارد ١٥٠ وحدة بسعر ١,١ دينار للوحدة

١/٦ منصرف للإنتاج ٢٠٠ وحدة

١/١٠ الوارد ٢٠٠ وحدة بسعر ١,٢ دينار للوحدة

١/١٥ منصرف للإنتاج ٣٠٠ وحدة

١/٢٠ مرتد من يوم ١/١٥ هو ٢٠ وحدة

١/٢٥ وارد ٢٥٠ وحدة بسعر ١,٣ دينار للوحدة

١/٣٠ منصرف للإنتاج ٣٠٠ وحدة

١/٣١ عند الجرد ظهر بأن الرصيد مقداره ٥٠ وحدة نصفه تلف طبيعي والباقي مسؤول عنه امين المخزن.

المطلوب: تصوير حركة الصنف في سجل استاذ المخازن بطريقة الوارد اخيرا صادر اولا فقط.

س:٥- أ- توفرت لديك البيانات الآتية: ساعات العمل المنتج الاعتيادية (٣:٢) للمنتجين س، ص) هي ٤٠ ساعة. وساعات العمل الإضافية (١:١) للمنتجين س، ص) هي ١٠ ساعات. وساعات الوقت الضائع ٧ ساعات منها ٣ ساعات اعتيادية وان الاجور المباشرة هي ٣٥٠٠ دينار.

المطلوب: احتساب حصة المنتج س وحصة المنتج ص من الاجور المباشرة. وما هو مقدار الاجور غير المباشرة.

ب- البيانات التالية تتعلق بإنتاج ٢٠٠٠ وحدة من المنتج س :


١٣٠٦٠٠ تكاليف الاجزاء، ٧١٠٠ مصاريف كهرباء، ٢٢٠٠٠ الايجار، ٣٢٤٠٠ اجور عمال التجميع، ٧٢٩٠٠ اندثار

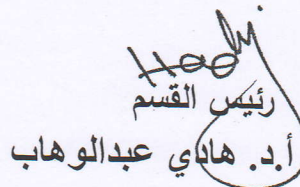
الآلات.


المطلوب: احتساب حصة الوحدة الواحدة من التكاليف المتغيرة والثابتة وذلك بالاعتماد على تصنيف التكاليف الى ثابتة

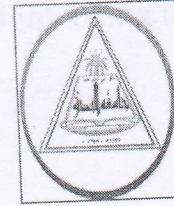
ومتغيرة. واحتساب اجمالي التكاليف عندما يكون مستوى الانتاج ٣٠٠٠ وحدة.

مع تمنياتي لكم بالنجاح


العميد
أ.د. عبدالحسين توفيق شبلي


رئيس القسم
أ.د. هادي عبدالوهاب


مدرس المادة
م. علي ماجد



ملاحظة: الاجابة عن اربعة اسئلة فقط على ان يكون السؤال الاول من ضمنها (توزع الدرجات بالتساوي)

Q1/ Find the optimal solution to the following problem of linear programming

by using **Simplex** method:

$$\text{Max } Z = 8X_1 + 15X_2 + 3X_3$$

$$\text{S.to: } 2X_1 + 3X_2 + X_3 \leq 300$$

$$2X_1 + 2X_2 + X_3 \leq 250$$

$$X_1 + X_2 + X_3 \leq 200$$

$$X_1, X_2, X_3 \geq 0$$

Q2/ Conversion the following linear programming problem to the **Dual** problem:

$$\text{Min } Z = 20X_1 + 25X_2 + 30X_3$$

$$\text{S.T } 3X_1 + 5X_2 + 6X_3 \geq 100$$

$$4X_1 + 4X_2 + 3X_3 \leq 200$$

$$3X_1 + 5X_2 + 6X_3 = 150$$

$$4X_1 + 4X_2 + 3X_3 \leq 120$$

$$X_1, X_2, X_3 \geq 0$$

Q3/ Find the optimal solution to the following problem of linear programming

by using **Graphical** method:

$$\text{Max } Z = 20X_1 + 10X_2$$

$$\text{S.to: } 7X_1 + 4X_2 \geq 112$$

$$6X_1 + 16X_2 \leq 192$$

$$X_1, X_2 \geq 0$$

Q4/ Find the optimal solution to the transportation problem using the following methods :


1-vogel method


2-Least cost method

plants	Locations			supply
	A	B	C	
1	5	3	8	200
2	7	11	10	180
3	9	4	1	120
demand	175	125	100	500 400

س٥/ مصنع ينتج كراسي و طاولات و ديكور مكتب ، لديه (46) وحدة من الخشب و (22) ساعة لإكمال الانتاج لغرض تجهيز طلبية لاحد الزبائن. يحتاج الكرسي الى (6) وحدات خشب و (4) ساعات للإنجاز و تحتاج الطاولة الى (7) وحدات من الخشب و (5) ساعه و ديكور المكتب يحتاج الى (10) وحدات خشب و (6) ساعة للإنجاز حيث تبلغ تكلفة الكرسي الواحد (100) دينار و تكلفة الطاولة (120) دينار و تكلفة ديكور المكتب (250) دينار. يسعى المصنع لتحقيق اقل تكلفة ممكنة . المطلوب / صياغة مشكلة البرمجة الخطية ؟

مع تمنياتي لكم بالنجاح


رئيس القسم
أ.م. هادي عبدالوهاب عبد الامام


مدرس المادة
م.م. باسل جبار عجيل


العميد
ا.د. عبدالحسين توفيق شبلي



University of Basrah
College of Administration and Economics
Department of Business Administration



Final Exam
1st Semester
Academic year (2023-2024)

Subject: English Language Grade: 3rd Date: / /2024 Time: Two hours

Note: Answer five questions only

Q1/ Read the following texts and describe whether these statements are True (T) or False (F):
(Answer 5 only) (10 Marks)

Jon, the thing I miss most when I'm away from home is definitely listening to the radio, and the way I get around this, particularly when I go away for, three or four months or something, is to take a small short wave radio that I found and take great trouble to tune in this short wave radio to get an English language station, something like the World Service. And I'm there, waving the aerial around and twiddling the knob, and trying to find the correct kind of station, but then suddenly when it all comes in, and you can hear it, it's great, it really makes me feel like I'm back home, back in my bedroom tuning into weird programs on wonderful subjects really.

1. When Jon is away from home, they miss listening to the radio.
2. Jon takes a small shortwave radio with them when they go away for three or four months.
3. Jon easily tunes in to an English language station on their shortwave radio.
4. Hearing the radio on the shortwave radio makes the Jon feels like they're back home.
5. Jon tunes into weird programs on their shortwave radio.
6. Jon always struggles to find an English language station on their shortwave radio.

Q2/ Correct the sentences. (10 Marks)

1. I was doing my homework when my friend was busy.
2. It's really cold lately, so I've bought new summer coat.
3. I worked with Ahmed for two years now, and we still get on well together.
4. I've heard you'll get a job; Congratulations.

Q3/ Re-write the sentence using the passive and omitting the subject. (Answer 5 only)
(10 Marks)

1. Meena will not have changed the bedsheet.
2. They will have won the match.
3. The bike – repair – at the moment.
4. The package – send – by a good friend.

5. The church – not renovate – for two hundred years.
- 6, The shop has already delivered the new sofa.

Q4 Choose the suitable words in the blank (in, on, at, inside, to, across ,through) (10 Marks)
(Answer 5 only)

- 1- Easter falls spring each year.
- 2- Christmas is December 25th.
- 3- I learned how ski during the holidays.
- 4- The boys are the entrance at the movie theater.
- 5- The key is locked the car.
- 6- We will meet The airport.
- 7- Mike travelled America on his motorcycle.

Q5/Complete the following sentence with suitable words in the blank. (10 Marks)


(do away, do without, could do with, make up for, make off with)

1. I'm so thirsty. I..... a cup of tea.
2. I think we should.....the Olympic Games. It's a waste of time and expensive.
3. I could never my personal assistant. She organizes everything for me.
4. Thieves broke into the castle and jewellery and antique paintings.
5. Jake's parents buy him loads of toys. They're trying toalways being at work.

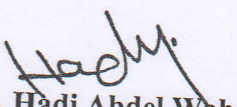
Q6/ Describe whether these statements are A or B. (10 Marks)

- | | |
|---|---|
| 1- A -where you go on holiday , | B -where you do you go on holiday?. |
| 2- A -Do you have children , | B- Do you have got any children? |
| 3- A- I'm Ali , I'm coming from Iraq , | B- I'm Ali ,I come from Iraq. |
| 4- A- This is a great party. Everyone is dancing, | B- This is a great party. Everyone is dances. |
| 5- A- I don't have a mobile phone, | B- I no have a mobile phon. |

Good Luck


Mohammed M. Mohsin

Lecturer


Prof. Dr. Hadi Abdel Wahab

Head of Department


Prof. Dr. Abdul-Hussein Tawfiq Shibli

The Dean

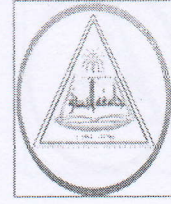
استمارة

المرحلة الرابعة

المادة: إدارة العقود
الحكومية
المرحلة: الرابعة
الوقت : ساعتين
التاريخ: 2023-12-26



أسئلة الامتحان
الدور - الاول
الكورس الاول
للعام الدراسي
2024/2023



جامعة البصرة
كلية الإدارة والاقتصاد
قسم ادارة الاعمال
الدراستين الصباحية
والمسائية

ملاحظة : الاجابة على خمسة اسئلة فقط و لكل سؤال (10 درجات) (يكون الجواب بالقلم الجاف حصراً)

س1:- عرف ما يأتي بالتفصيل
1- عقد البوت 2- العقود الحكومية 3- عقد إدارة المشروع 4- الاتفاقية 5- العلاقات التعاقدية

س2:- توجد بعض الحقوق والالتزامات لصاحب الامتياز خلال فترة المشروع ، بينها بالتفصيل

س3:- اختر فرع واحد فقط

A- هناك نقاط تقارب ونقاط اختلاف بين ضوابط التوقف وضوابط التمديد ، وضح من خلال جدول مقارنه نقاط الاختلاف .

B- ماهي النقاط التي يجب إن تتوفر عند تنظيم العقد من التشكيل الاداري للعقود من جهة التعاقد

س4:- يتم ذكر التأمينات والغرامات التأخرية ومدة العقد والتمديد في بنود العقود، ماذا تعرف عن التأمينات ؟ تكلم عنها على إن تكون الاجابة على شكل نقاط .

س5:- هل يجوز تقسيم نهاية العقد الاداري إلى نهاية اعتيادية ونهاية غير اعتيادية ؟ اجب عن فرع واحد فقط

A- اذا كان رأيك مخالف منطوق السؤال اكتب (كلا) مع التوضيح

B- اذا كان رأيك موافق منطوق السؤال اكتب (نعم) مع التوضيح

س6:- تختلف الاساليب عن انواع التعاقدات ، عدد الاساليب مع شرح ثلاث منهم بالتفصيل

تمنياً في لكم النجاح

أ. د. هادي عبد الوهاب عبد الامام

العميد

م. ثائر خلف خشان


مدرس المادة

رئيس القسم

المادة: تكنولوجيا
المعلومات الادارية
المرحلة: الرابعة
الوقت: ساعتان
التاريخ: 28 / 11 / 2022



أسئلة الامتحان
الدور -
الكورس الاول
للعام الدراسي
٢٠٢٣/٢٠٢٤



جامعة البصرة
كلية الإدارة والاقتصاد
قسم ادارة الاعمال
الدراسات الصباحية
والمسائية .

لاحظة : ١- الاجابة على ٥ اسئلة فقط ٢- الاسئلة تتكون من صفحتين ٣- توزع الدرجات بالتساوي

<p>سؤال الاول / اختيار الاجابة الصحيحة ، ضع الاجابة في جدول من خلال كتابة رقم الفقرة وحرف الاجابة</p>
<p>فيما يلي واحدة ليس من خصائص المعلومات : A-النمو B-التكامل C-النسخ D-الاستنتاج E- الكل صح F- الكل خطأ</p>
<p>تتوقف طبيعة اختيار مصادر الموارد البشرية العاملة في (ITS) بالنسبة للمصدر الداخلي على عدد من الحالات فيما يلي واحد ليس منها: A-مستوى الانفاق B- الكلفة C- حادثة المنظمات D- حجم المنظمة E- الكل صح F- الكل خطأ</p>
<p>..... هي اجراء سلسلة متتابعة من العمليات على بيانات محددة تخص موضوع معين لتحقيق نتائج معينة(معلومات) وفق تخطيط للوصول الى الحل. A معالجة المعلومات B-معالجة البيانات C- معالجة المعاملات D-معالجة البيانات إلكترونياً E- الكل صح F- الكل خطأ</p>
<p>لنظام معلومات العمليات انظمة فرعية كثيرة، منها النظام الفرعي لمعلومات: A-المنتج B- المواد C- تدفق العمليات D- تسهيلات النقل والمناولة E- الكل صح F- الكل خطأ</p>
<p>أن نظام معلومات الموارد البشرية يتضمن عدد من الانظمة الفرعية الاخرى في داخلة فيما يلي واحد ليس منها: A-استقطاب B-تدريب C- تنظيم D-تحفيز E- الكل صح F- الكل خطأ</p>
<p>فيما يلي ثلاثة من ابعاد المعلومات عدا واحدة: A-المحتويات B-اللغة C- النقل D- العمر E-الكل صح F-الكل خطأ</p>
<p>يتكون انموذج جيمس لمكونات نظام IT من خمسة أجزاء هي (الأجهزة والبرامج والمعلومات والافراد العاملون و.....) A - الشبكات B- البيانات C- أجهزة التخزين D- الاجراءات E- الكل صح F- الكل خطأ</p>
<p>فيما يلي ثلاثة من خصائص المعلومات عدا واحدة. A- الاستنتاج B- النمو C- الوفرة D-النوعية E- غير ذلك طريقة معالجة حاسوبية يتم فيها تجميع العمليات الجارية على شكل دفعة ثم يتم تشغيلها مرة واحدة فيما بعد. A-المعالجة بالوقت الحقيقي B-المعالجة الموزعة C- المعالجة المتزامنة D-المعالجة الديناميكية E- غير ذلك</p>
<p>تتنوع الأساليب التدريبية التي يمكن اعتمادها في مجال نظم وتكنولوجيا المعلومات ومنها: A-التدريب النظري B-التدريب الخاص C-أسلوب المحاكاة D-أسلوب الحلقات الجماعية E- الكل صح F- الكل خطأ</p>

الثاني / الفرع أ : - عدد خمس فقط من فوائد انظمة المعلومات الادارية.

الثاني/الفرع ب: ضع علامة صح امام العبارة الصحيحة وخطأ امام العبارة الخاطئة من خلال كتابة الرقم والعلامة.

<p>الجانب التنظيمي يتطلب التمتع بالخبرة والكفاءة في عمل أنظمة وتكنولوجيا المعلومات في المنظمة.</p>
<p>تعد (MIS) انظمة الية تستخدم في معالجة المعلومات بتكنولوجيا حاسوبية الية العمل.</p>
<p>يترادف مفهوم المعالجة المتزامنة مع مفهوم المعالجة المتسلسلة .</p>
<p>المعالجة المباشرة او المعالجة بالوصول المباشر هي تسميات مرادفة للمعالجة المتزامنة .</p>
<p>المخرجات النهائية تعني المنتجات التي يحققها النظام وتؤثر على الاطار العام الذي يعمل في نطاقه والذي يسمى البيئة</p>

السؤال الثالث / ارسم فقط ١- عملية تحويل البيانات الى معلومات من خلال انظمة المعالجات.

٢- مكونات (ITS) والعلاقات الترابطية بينها.

السؤال الرابع / عدد و اشرح بدقة وتركيز مكونات تكنولوجيا المعلومات .

السؤال الخامس / الفرع أ : - اطرح موضوع من الموضوعات التي درستها في مادة تكنولوجيا المعلومات

الادارية والذي تجد نفسك متمكناً فيه ، وقدم شرحاً وافياً عنه مع ذكر الامثلة.

السؤال الخامس / الفرع ب : - اكمل الفراغات التالية، ضع الاجابة في جدول من خلال كتابة رقم الفقرة والكلمات المناسبة.

١	تعد المورد الأثمن في نظام تكنولوجيا المعلومات، اذ يمثلون ثروة معرفية وفكرية وتنظيمية.
٢ تعني محاولة تطويع القوى لمصلحة وخدمة البشر.
٣	كلما كان مستوى الانفاق في المنظمة ضعيفاً فمن الجيد استخدام..... لأشغال وظائف أخرى هي في الأصل في نفس المنظمة.
٤ هي مجموعة معارف اختبرت وأثبتت وتخدم مواضيع كثيرة تم اثباتها وتجميعها وترقيتها.
٥	من أنواع أنظمة الحواسيب حاسوب تماثلي والذي يقوم بالتمثيل البياني و

السؤال السادس / الفرع أ :- وضح اهمية تكنولوجيا المعلومات للدول.

السؤال السادس / الفرع ب :- صحح ما تحته خط ؟ ضع الاجابة في جدول من خلال كتابة رقم الفقرة

ومقابلها الاجابة الصحيحة

١	دورة الحاسب يبدأ بإدخال البيانات ومعالجتها ومن ثم إخراجها.
٢	في المعالجة المتعددة المتوازية يقوم الحاسوب بعمليات عديدة مستمرة لمعالجة البيانات ومن دون تدخل المستخدم بين كل عملية وأخرى
٣	طبيعة النشاطات تعني السهولة في تدريب العاملين الذين سيشغلون الوظائف في نظام المعلومات وسرعة تأقلمهم وتكيفهم عليها
٤	المدخل التكنولوجي -الاجتماعي يفرض انه على المديرين الالمام بالحاسوب مع ما يتمتعون به من مهارات وخبرات إدارية.
٥	العمل على تغيير أنماط الثقافة التنظيمية السائدة احد المتطلبات الإدارية لتطبيق أنظمة تكنولوجيا المعلومات

رئيس القسم
أ. د. هادي عبدالوهاب عبدالامام

مع تمنياتنا لكم بالنجاح

مدرس المادة
أ.م. زيد صادق ماجور

مدرس المادة
م.م. رنا عبدالله

العميد

أ.د. عبدالحسين توفيق شبلبي

المادة: ادارة المخاطر
المرحلة: الرابعة
الوقت: ساعتان
التاريخ: ٣١ / ١٢ / ٢٠٢٣



أسئلة الامتحان
النهائي
الدور - الاول
الكورس الاول
للعام الدراسي
٢٠٢٤/٢٠٢٣



جامعة البصرة
كلية الإدارة والاقتصاد
قسم ادارة الاعمال
الدراسات الصباحية
والمسائية

ملاحظة الاجابة على اربعة اسئلة ، توزع الدرجات بالتساوي

س١ / اختر الاجابة الصحيحة

١- مخاطر الاعمال ترتبط بمتغيرات

ا- مالية ب- تشغيلية ج- تغيير اسعار الصرف د- ليس كل ما ذكر

٢- عندما تكون القيمة الفعلية لخطر متغير المالي أسوء من القيمة المتوقعة او المرغوبة فان النتيجة تكون
ا- موجبة ب- سالبة ج- طردية د- محايدة

٣- احدى هؤلاء من خصائص السندات

ا- المخاطرة ب- السيولة ج- ليس لها تاريخ استحقاق د- خاصية التداول

٤- تبني قرارات المراهنة على

ا- مؤشر التداول ب- مؤشر العائد ج- مؤشر التداول والعائد د- ليس لها استراتيجية محددة

٥- ان استراتيجية تحمل مخاطر محسوبة تعني

ا- الاحتفاظ بمستوى الخطر كما هو عليه ب- تدنية الخطر الى الصفر

ج- تحديد مستويات الخطر التي يمكن تحملها د- كل ماسبق ه- ليس كل ماسبق

س٢ / صحح ما تحته خط

١- المخاطر غير المنتظمة تواجه المنظمات التي تتسم مبيعاتها بالموسمية

٢- تصف المخاطر المضاربة موقفا يحمل امكانية الربح

٣- كلما زادت قيمة الانحراف المعياري دل ذلك على زيادة العائد

٤- من اهداف ادارة الخطر التي تسبق الخسارة استمرارية النمو واستقرار الارباح والخسائر

٥- ان تاريخ الاستحقاق (الحق في استرداد القيمة) بالنسبة للاسهام الممتازة يكون اجباري

س٣ / اشرح بشكل مفصل عن المخاطر التي تتعرض لها السندات

س٤ / قارن بين اثنين مما يلي:

١- المخاطرة وعدم التأكد

٢- الاستثمار والمضاربة

٣- المخاطر المالية ومخاطر الاعمال

س٥ / تكلم بشكل مفصل عن استراتيجيات ادارة المخاطر

رئيس القسم
أ.د. هادي عبد الوهاب

مدرسة المادة
أ.م. وفاء علي سلطان
أ.د. زينب شلال عكار

العميد
أ.د. عبدالحسين توفيق شبلي

ملاحظة: الاجابة عن خمس اسئلة فقط

السؤال الاول:.....(10درجة)
الجدول التالي يبين البيانات المستخلصة من سجلات شركة الكندي لانتاج الادوية في العراق للسنوات 2022 & 2023

التفاصيل	2022	2023
كمية الانتاج (وحدات)	1500	1000
اجور العمل المباشرة (دينار)	600	400
كلفة الطاقة (دينار)	800	600
كلفة المواد الأولية (دينار)	700	530
كمية المواد الأولية (كغم)	230	200
الطاقة المستهلكة (كيلو واط/ساعة)	400	310

المطلوب :- حساب الاتي للسنوات 2022&2023

1-الانتاجية الكلية 2-الانتاجية الجزئية للطاقة 3-الانتاجية الجزئية للمواد 4-الانتاجية متعددة العوامل (العمل والمواد) 5- مؤشر التغير في الانتاجية

السؤال الثاني:-.....(10درجة)

الفرع الاول:- (5 درجة)

اذا علمت ان المخرجات = 6000 وحدة ، المدخلات الفعلية = 9000 دينار ، نسبة التلف = 35 %
المطلوب :- حساب مؤشر الكفاءة

الفرع الثاني:- (5 درجة)

صحح فقط ماتحته خط

1-المخرجات هي الموارد التي تدخل في عملية التحويل للحصول على سلع وخدمات متعددة الاشكال او شكل واحد.
2-المنفعة الزمانية هي تغيير المدخلات من شكل الى اخر اي اجراء معالجات التغيير بشكل المدخلات وجعلها ذات شكل اكثر منفعة.

3-الانتاج هو العلاقة بين المخرجات والمدخلات.

4-التنبؤ الاقتصادي هو تقدير حجم المبيعات او الطلب خلال مدة زمنية محددة للمستقبل.

5-العمليات الانتاجية هي القدرة على استغلال الموارد استغلالا صحيحا " لتحقيق الاهداف

السؤال الثالث:-.....(10درجة)

بيانات التالية تمثل الطلب الحقيقي والطلب المتنبأ به لشركة الصناعات الالكترونية

الفترة n	الطلب الحقيقي D	الطلب المتنبأ به F
1	12	15
2	10	16
3	17	13
4	18	12
5	14	10
6	12	12

مطلوب :- رسم مخطط التجاوز اذا علمت ان الانحراف المسموح به (±1)

السؤال الرابع:-.....(10درجة)

الفرع الاول:- ضع كلمة صح او خطأ امام العبارات الاتية (5 درجة)

1-التنبؤ التكنولوجي ويهتم بدراسة وتقدير التغيرات التكنولوجية للمستقبل وخاصة فيما يتعلق بظهور منتجات جديدة
الاحتياج الى معدات جديدة.

2-مدى توافر الخدمات الصحية والمستشفيات من العوامل الاقتصادية المؤثرة في اختيار الموقع.

3-ارتفاع وانخفاض درجات الحرارة وتوافر الامطار من العوامل الطبيعية المؤثرة في اختيار الموقع

4- الترتيب حسب المنتج هو جميع الاجراءات الى تؤدي الى تجميع المكنان والمعدات والعمليات والافراد ذات الطبيعة المتشابهة في قسم واحد.

5- من اهداف الترتيب الداخلي هو التخلص من الاختناقات والوقت الضائع للاستفادة المثلى من مجهودات الافراد.
الفرع الثاني:- ترغب الشركة العامة للصناعات الانتشائية اختيار موقع لها لبناء مصنع جديد , وبعد دراسة العوامل المؤثرة في اختيار الموقع قدم الخبراء اربعة مواقع بديلة ووفق المعلومات في الجدول ادناه.

الموقع	التكاليف الثابتة(دينار)	الكلفة المتغيرة (دينار/ وحدة)
الاول	120000	19
الثاني	150000	17
الثالث	163000	15
الرابع	167000	12

المطلوب:- اختيار الموقع الافضل من بين المواقع الاربعة اذا كان حجم الانتاج المطلوب 75000 وحدة. (5درجة)

السؤال الخامس:-.....(10درجة)

البيانات التالية تمثل مبيعات موزعة حسب الفصول

السنوات	Q1	Q2	Q3	Q4
2021	15	10	12	8
2022	13	8	10	7
2023	8	9	8	6

المطلوب:- حساب التنبؤ بالكمية حسب الفصول علماً أن الكمية المقدرة للسنة القادمة 2024 (120) وحدة .

السؤال السادس:-.....(10درجة)

يحاول مدير العمليات اعداد ترتيب لحد خطوط التجميع المخصصة لإنتاج اجهزة (Video CD) بمعدل (500 وحدة) يومياً, والجدول التالي يبين النشاطات اللازمة لتجميع الجهاز الواحد وعلاقتها التتابعية واوقات المعالجة لإنتاج كل نشاط علماً ان الخط الانتاجي يعمل بواقع (8) ساعة عمل يومياً.

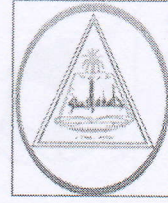
النشاط	النشاط السابق	وقت المعالجة(ثانية)
A	-	50
B	A	48
C	A	35
D	B	15
E	C	18
F	E	8
G	E	32
H	D	16
I	D	24
J	I&F	38
K	H&G&J	56
المجموع		340

المطلوب:- رسم مخطط الاسبقيات 1- زمن دورة الانتاج 2- العدد النظري للمحطات 3-كفاءة الخط 4- نسبة الوقت الضائع ومقدار الوقت الضائع 5- الوقت الضائع لكل نشاط

أ.د. هادي عبد الوهاب عبدالامام
رئيس القسم

"مع تمنياتنا لكم بالنجاح"
م.م. دعاء شهيد حبيب
مدرس المادة

أ.م.د. شذى احمد علوان
مدرس المادة



ملاحظة : - الإجابة عن أربعة أسئلة فقط ولكل سؤال (12.5 درجة)

- تكون الإجابة بقلم الجاف حصراً (الأسود او الأزرق)

س1 : أختار الإجابة المناسبة لما يأتي :

1. هي شركات من خصائصها ان التكنولوجيا المعتمدة من قبلها تصبح مشتركة بين فروعها:
أ. المصدرة والدولية ب. المتعددة الجنسيات ج. العالمية د. الدولية
2. لحصول الكثير من الصناعات على أسواق في جميع انحاء العالم وتنافسها مع غيرها بكفاءة من خلال:
أ. تغيير الأسلوب التصنيعي ب. تغيير الأسلوب التسويقي ج. تغيير الأسلوب البحثي د. (أ+ب+ج)
3. تعتبر القدرة القيادية مؤشراً ل :
أ. خصائص الإداري الدولي ب. خصائص الإداري العالمي ج. المهنية د. خصائص المدير العالمي
4. شخص تزداد منفعته بزيادة العائد ويكون معدل الزيادة للمنفعة متناقص هو :
أ. متجنب المخاطر ب. معتدل المخاطر ج. محب للمخاطر د. (أ+ب+ج)
5. المؤشر الأكثر استخداماً في تحديد حجم الشركة :
أ. الحصة السوقية ب. مجموع الموجودات ج. عدد العاملين د. جميع ما ذكر

س2: عرف ما يلي: (اجب عن خمسة فقط)

1. بعد السلطة
2. العوامل اللوجستية
3. الشركات المصدرة
4. الاعمال الدولية
5. Smile
6. القيود المطبقة على الحدود.

س3: اشرح بالتفصيل الخصائص التنظيمية للمنظمات الدولية؟

س4: صحح ما تحته خط :

1. الاعمال الدولية هي عملية مستمرة تستهدف تسهيل حركة الانسان ورؤوس الأموال والخدمات.
2. عولمة الطلب يتم من خلالها التغطية الكاملة للأسواق العالمية.
3. تؤثر نوعية المناطق على نوعية الرسالة الاعلانية فيما يتعلق بالنواحي التسويقية.
4. الاستراتيجية التعاونية يميل المفاوض من خلالها الى التركيز على النهج العلمي (النفعي).
5. من مميزات الشركات المتعددة الجنسيات انها تمارس أنشطة الاستيراد والتصدير والتحالفات والاندماجات والاكتسابات

لترويج انتاجها ومبيعاتها.

س5: بين من خلال الشرح علاقة الثقافة بالنظم الاجتماعية مدعماً اجابتك بالرسم ان تطلب ذلك؟

الاجابة

الاجابة



Note:

Answer four questions, including the first question.

Q1/ Read this text carefully.

Business administration is a broad field of study that provides foundational knowledge of business processes for students who would like to learn the day-to-day operations of running a business efficiently.

When studying business administration, you'll learn theory but also a wide variety of practical skills, including leadership, communication, negotiation management, strategic management, store management, crisis management, production management, finance, human resources, and marketing. Business administration students also have the opportunity to specialize in order to tailor their education to fit more closely with their career goals.

There are educational opportunities in business administration at all levels, including associate degrees, bachelor's degrees, master's degrees, and doctoral degrees.

A- Translate what is underlined only. (10 marks)

B- Describe the following sentences whether they are (True) or (False) (10 marks)

- 1- Business administration is a broad field of knowledge for studying Arabic and English.
- 2- Business administration provides the student with the opportunity to study art and drawing.
- 3- Business administration provides the student with the opportunity to study agricultural and bird-raising skills.
- 4- Business administration students graduate to work in sports clubs in the field of football training.
- 5- There is no opportunity at all for business administration students to complete their master's or doctoral studies.

Q2/ complete the text with prepositions from the box (answer only 5) (10 marks)

to	about	on	by	in	at
----	-------	----	----	----	----

1. I'll be with you ----- a minute.
2. We live in a house ----- the sea.
3. We are sitting ----- the ground.
4. I will meet you ----- nine o'clock.
5. Every day I take the subway ----- Cairo station.
6. We are talking ----- football.

Q3/ choose the correct answer to fill in the blanks (answer only 5) (10 marks)

1. His brother rarely town.
a) leave b) is leaving c) leaves
2. I to the city once a week.
a) go b) goes c) going
3. They — any answer yet.
a) didn't receive b) haven't received c) weren't receiving
4. Tom every day.
a) study b) studies c) is studying
5. She — dinner yet.
a) didn't make b) hasn't made c) wasn't making
6. Lea and I _____ in the pool at the moment.
a) swims b) swim c) are swimming

Q4/ Complete the sentences by using the question words (Wh Questions) in the box

Hoe long	Whose	Who	How	How much
----------	-------	-----	-----	----------


1. ----- opened the door? (10 marks)
2. ----- keys are these?
3. ----- does this CD player work?
4. ----- money do you have in your bank account?
5. ----- did the party last?

Q5/ Put the verb in the correct tense. (10 marks)

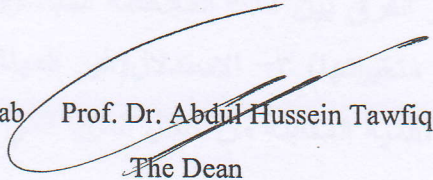
1. Why (go, not) ----- to the gym for the last three days?
a) Have you not been going b) Has you not been going c) Are you not going
2. I'm sorry I can't hear what you (say) ----- because everybody ----- so loudly.
a) saying, talking b) are saying, is talking c) are saying, talk
3. Don't forget to wear your coat. It (snow) -----.
a) snows b) is snowing c) has snow
4. I (read) ----- War and Peace for two months now.
a) Has been reading b) Have been reading c) Am reading
5. She (play) ----- Tennis for three hours with her friends.
a) Has been played b) Is playing c) Has been playing



Prof. Dr. Wameedh A. Khair
The lecturer



Prof. Dr. Hadi Abdul Wahab
Head of Department

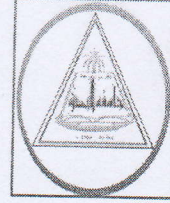


Prof. Dr. Abdul Hussein Tawfiq
The Dean

المادة: منهج البحث
العلمي
المرحلة: الرابعة
الوقت: ساعتان
التاريخ: ١٣ / ١ / ٢٠٢٣



أسئلة الامتحان
النهائي
الدور - الاول
الكورس الاول
للعام الدراسي
٢٠٢٤/٢٠٢٣



جامعة البصرة
كلية الإدارة والاقتصاد
قسم ادارة الاعمال
الدراسات الصباحية
والمسائية

ملاحظة / الاجابة على خمسة اسئلة فقط . توزع الدرجات بالتساوي ولكل سؤال ١٠ درجات .

س١ / املأ الفراغات الاتية بما يناسبها:

- ١- التراكمية احدى صفات -----
- ٢- هناك اسلوبان لصياغة المشكلة هما ----- و-----
- ٣- المدرج التكراري هو احدى طرق الرسم البياني للبيانات -----
- ٤- ----- عبارة عن استبيان شفوي يقوم الباحث من خلاله بجمع البيانات والمعلومات المتعلقة بمتغيرات البحث عن المستجيب .
- ٥- الابتكار والاصالة احد شروط اختيار -----

س٢ / اختر الاجابة الصحيحة لكل مما يأتي :

- ١- الفرض النهائي الذي يمكن الدفاع عنه بالدليل الموضوعي الذي يتم تجميعه والحصول عليه وهو اكثر ثقة .
(المشكلة - النظرية - الفرض - الملاحظة)
- ٢- اكثر انواع الاستبيان شيوعاً هو الاستبيان (الشفوي - المقفول - المفتوح - المفتوح المقفول)
- ٣- يتم تبويب البيانات بغية تحليلها بأستعمال (الخطوط البيانية - الرسوم التصويرية - الطريقة الآليه - الجداول)
- ٤- يتطلب زيادة حجم العينة في البحث في حالة (تباين مجتمع البحث وعندما يريد الباحث الحصول على نتائج دقيقة - الباحث يريد الحصول على نتائج دقيقة فقط - تجانس مجتمع البحث - تجانس مجتمع البحث وعندما يريد الباحث الحصول على نتائج دقيقة)
- ٥- من اساليب صياغة موضوع البحث، اسلوب بشكل علاقات ،ويحتاج الباحث الى (اختبارات متعددة - تحليل انحدار - الاحصاء الوصفي - معامل ارتباط)

س٣ / ما هو الاستبيان ؟ وما هي خطوات تصميمه او صياغته ؟

س٤ / عدد فقط لكل مما يأتي : ١- اساليب تصنيف البيانات ٢- انواع بحوث المنهج الاستدلالي

٣- ادوات اجراء الدراسات المسحية للبحث ٤- انواع العينات الاحتمالية

س٥ / ما هو الفرق بين : ١- الملاحظة المباشرة والملاحظة غير المباشرة . ٢- المشكلة والفرض من حيث (التعريف

والعلاقة بين متغيراتها) ٣- الاستدلال (غير المباشر) القياسي والاستقرائي .

س٦ / تبرز اهمية المقابلة من خلال المزايا التي تتمتع بها ، اذكر هذه المزايا ؟

مع تمنياتي لكم بالنجاح

العميد
د. عبد الحسين توفيق شبلي

رئيس القسم
أ.د. هادي عبد الوهاب

مدرس المادة P
محمد عبد الرضا
م.م ياسمين السعد